

دفترچه

شماره

۱

دفترچه شماره ۱
صبح جمعه
۱۴۰۴/۰۴/۲۷



جمهوری اسلامی ایران
وزارت علوم، تحقیقات و فناوری
سازمان سنجش آموزش کشور

در زمینه مسائل علمی باید دنبال فقه بود.
مقام معظم رهبری

آزمون اختصاصی (سراسری) ورودی دانشگاهها و مؤسسات آموزش عالی - نوبت دوم سال ۱۴۰۴

گروه آزمایشی علوم تجربی



ردیف	ماده امتحانی	تعداد سؤال	از شماره	تا شماره	زمان پاسخ‌گویی
۱	زیست‌شناسی	۴۵	۱	۴۵	۴۵ دقیقه

استفاده از ماشین حساب ممنوع است

این آزمون نمره منفی دارد

حق چاپ، تکثیر و انتشار سؤالات به هر روش (الکترونیکی و...) پس از برگزاری آزمون، برای انتهای علمی و حرفه‌ای با مجوز این سازمان مجاز می‌باشد و با متخلفین برابر مقررات رفتار می‌شود.

* داوطلب گرامی، عدم درج مشخصات و امضا در مندرجات جدول زیر، به منزله عدم حضور شما در جلسه آزمون است.

اینجانب با شماره داوطلبی با آگاهی کامل، یکسان بودن شماره صندلی خود را با شماره داوطلبی مندرج در بالای کارت ورود به جلسه، بالای پاسخنامه و دفترچه سؤالات، نوع و کد کنترل درج شده بر روی دفترچه سؤالات تأیید می‌نمایم.

امضا:

- ۱- در ارتباط با تمام یا بخشی از لایه خارجی پرده جنب انسان، کدام مورد درست است؟
 (۱) توسط بخش جانبی اسکلت بدن احاطه می‌شود.
 (۲) در مجاورت بنداره (اسفنکتر) انتهای معده است.
 (۳) به ساختاری اسفنج‌گونه و کشسان چسبیده است.
 (۴) در نزدیکی استخوانی است که با استخوان کتف مفصل می‌شود.
- ۲- با توجه به اطلاعات کتاب درسی درباره چشم انسان، یاخته‌های گیرنده‌ای که در نور کم تحریک می‌شوند نسبت به یاخته‌های گیرنده‌ای که در نور زیاد تحریک می‌شوند، چه مشخصه‌ای دارند؟ (در نظر بگیرید در هر گیرنده نور، قطعه‌ای که میان محل هسته و محل قرارگیری ماده حساس به نور است، قطعه داخلی و بخش حاوی ماده حساس به نور، قطعه خارجی نامیده می‌شود).
 (۱) قطعه داخلی قطورتری دارند.
 (۲) هسته آنها بسیار بزرگ‌تر است.
 (۳) بخش خارجی بلندتری دارند.
 (۴) در لکه زرد به میزان فراوان‌تری یافت می‌شوند.
- ۳- کدام مورد نادرست است؟
 (۱) واتسون و کریک با بررسی نقاط تیره در مرکز تصویر حاصل از پرتو ایکس، مدل مولکولی دنا را ساختند.
 (۲) مزلسون و استال چگونگی همانندسازی و توزیع دنا را بین یاخته‌های تکثیر یافته بررسی کردند.
 (۳) دلیل برابری نوکلئوتیدها در دنا جانداران، برای چارگاف نامشخص بود.
 (۴) ابعاد مولکول‌های دنا برای ویلکینز و فرانکلین قابل تشخیص بود.
- ۴- مطابق با اطلاعات کتاب درسی، در خصوص یاخته‌هایی که قادرند ماده اصلی ایجادکننده علائم شایع حساسیت را تولید کنند، کدام مورد زیر درست است؟
 (۱) همه آنها درشت‌خوار هستند.
 (۲) همه آنها، سیتوپلاسمی با دانه‌های روشن دارند.
 (۳) فقط بعضی از آنها، دارای هسته چندقسمتی هستند.
 (۴) فقط بعضی از آنها در شرایط طبیعی در بافت‌ها حضور دارند.
- ۵- با گذشت زمان و طی سالیان متمادی، دوگونه میگوی هم‌نژاد هر یک به صورت جمعیتی کوچک، پس از ایجاد پدیده کوه‌زایی به‌وجود آمدند. با توجه به تعریفی که ارنست مایر از گونه ارائه داد، کدام مورد زیر، می‌تواند درست باشد؟
 (۱) همه عواملی که می‌توانستند جمعیت اولیه را از تعادل خارج کنند، فعال ماندند.
 (۲) همه عوامل مؤثر در گونه‌زایی، دگره (الل) یا دگره‌هایی را به جمعیت افزودند.
 (۳) با گذر زمان، عواملی باعث تداوم گوناگونی در جمعیت‌ها شد.
 (۴) امکان آمیزش موفقیت‌آمیز بین افراد دو جمعیت وجود دارد.
- ۶- چند مورد زیر می‌تواند باعث ایجاد ادم در انسان شود؟
 الف - برداشتن گره‌ها و رگ‌های لنفاوی زیر بغل
 ب - وقوع واکنش‌های التهابی شدید
 ج - نارسایی دریچه‌های لانه کبوتری پا
 د - ورود کرم‌های انگل به داخل رگ‌های لنفی
- (۱) ۴ (۲) ۳ (۳) ۲ (۴) ۱

- ۷- در ارتباط با یکی از پرده‌های جنینی که به دیواره رحم انسان می‌چسبد، کدام مورد را می‌توان بیان نمود؟
 (۱) خون جنین مستقیماً از رگ‌های آن خارج و به درون حفره‌های اطراف زوائد انگشتی وارد می‌شود.
 (۲) منشأ آن، یاخته‌هایی است که فرایند جایگزینی توسط آنها انجام شد.
 (۳) حاوی رگ‌هایی است که خون مادر هم در آن جریان دارد.
 (۴) باعث فعالیت جسم زرد تا انتهای دوره بارداری می‌شود.
- ۸- کدام مورد زیر، در ارتباط با «جلبک قهوه‌ای» نادرست است؟
 (۱) تعداد جایگاه‌های همانندسازی بسته به نیاز جاندار قابل تنظیم است.
 (۲) دقت بالای همانندسازی دنا منحصراً به توانایی ویرایش دنباسپاراز وابسته است.
 (۳) در یک مرحله از اینترفاز، هر بخش از دنا جهت همانندسازی، فقط یکبار باز می‌شود.
 (۴) پیشرفت همانندسازی در بخش‌های باز شده دنا یک فام تن (کروموزوم) می‌تواند یکسان باشد.
- ۹- کدام عبارت در ارتباط با اندام‌های دستگاه گوارش موجود در شکم درست است؟
 (۱) فقط بعضی از اندام‌هایی که به میان‌بند (دیافراگم) نزدیک هستند می‌توانند نوعی ترکیب یونی بسازند.
 (۲) هر اندامی که توانایی تولید نوعی پلی‌ساکارید ذخیره‌ای را دارد، نوعی آنزیم را به شیرۀ گوارشی می‌افزاید.
 (۳) هر یاخته از اندامی که توانایی تولید بیکربنات را دارد، نوعی گلیکوپروتئین سازنده ماده مخاطی تولید می‌کند.
 (۴) فقط بعضی از اندام‌هایی که ماهیچه‌های حلقوی جهت تنظیم عبور مواد دارند، می‌توانند نوعی آنزیم گوارشی ترشح کنند.
- ۱۰- مطابق با اطلاعات کتاب درسی، در تنه استخوان بازوی انسان، به غیر از مجرای مرکزی استخوان، مجاری دیگری وجود دارد که محتوی رگ‌های خونی و لنفی‌اند. کدام مورد درباره این مجاری درست است؟
 (۱) همه آنها، با تیغه‌های استخوانی مجاورت دارند.
 (۲) فقط بعضی از آنها حاوی مجموعه‌ای از رشته‌های عصبی هستند.
 (۳) همه آنها حاوی یاخته‌های چربی و مقادیر فراوانی یاخته‌های بنیادی میلوئیدی‌اند.
 (۴) فقط بعضی از آنها دیواره‌ای از جنس بافت پیوندی دارند و با مجرای مرکزی استخوان نیز موازی هستند.
- ۱۱- با توجه به اطلاعات کتاب درسی درباره تنظیم مثبت و منفی در باکتری اشرشیاکلائی، کدام مورد درباره توالی‌های تنظیمی مؤثر در شروع رونویسی نادرست است؟
 (۱) فقط یکی از آنها، در مجاورت نخستین ژن قرار دارد.
 (۲) هر دوی آنها، بر ساختار اول محصول آخرین ژن بی‌تأثیرند.
 (۳) فقط یکی از آنها، باعث می‌شود تا رناباسپاراز اولین نوکلئوتید رمزه را در رشته الگو به‌طور دقیق پیدا کند.
 (۴) هر دوی آنها، می‌توانند به مولکولی متصل شوند که یک یا چند زنجیره بلند و بدون شاخه دارد.
- ۱۲- در بخشی از کتاب درسی، نمودار مزیت زندگی گروهی نوعی جانور نشان داده شده، چند مورد برای تکمیل عبارت زیر مناسب است؟
 «این جانور و دارند.»
 الف - شیرکوهی، اندام‌های همتا
 ب - پشه، اندام‌های آنالوگ
 ج - خفاش، دیواره کاملی بین دو بطن
 د - ملخ، بخش حجیمی در انتهای مری
 (۱) ۱ (۲) ۲ (۳) ۳ (۴) ۴
- ۱۳- در خصوص شبکه هادی قلب یک انسان سالم، کدام مورد نادرست است؟
 (۱) در حالتی که نیمی از دریچه‌های قلب بسته هستند، ممکن است پیام الکتریکی از گره اول به سمت گره دوم منتقل شود.
 (۲) در زمانی که پیام الکتریکی از طریق گره کوچک‌تر در سراسر دهلیز منتشر می‌شود، دریچه سه‌لختی باز است.
 (۳) قبل از اینکه تمام دریچه‌های قلبی بسته شوند، پیام الکتریکی در دیواره بین دو بطن منتشر شده است.
 (۴) در زمانی که پیام الکتریکی به سمت نوک قلب منتشر می‌شود، دریچه دولختی باز است.

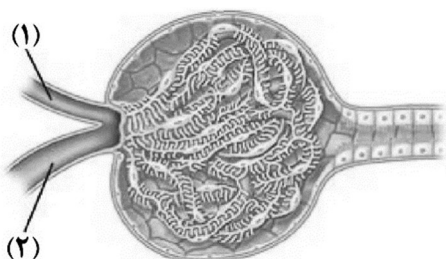
- ۱۴- فردی در ناحیه انگشت دست دچار مارگزیدگی شده است. جهت تسریع روند بهبودی، به فرد حادثه‌دیده، پادزهر سم مار تزریق نموده‌اند، کدام مورد دربارهٔ وقایعی که در بدن این فرد رخ می‌دهد، درست است؟
- ۱) تعدادی از پادتن‌های غیرخودی، در درون یاخته‌های فرد تجزیه می‌شود.
 - ۲) تعدادی از یاخته‌های دارینه‌ای، خود را به گره‌های لنفی کف دست می‌رسانند.
 - ۳) تعداد زیادی از یاخته‌های پادتن‌ساز غیرخودی، به تولید پادتن ادامه می‌دهند.
 - ۴) سم مار منحصراً به واسطه فعالیت سریع سومین خط دفاعی فرد، خنثی می‌شود.
- ۱۵- با توجه به مطالب کتاب درسی، کدام مورد زیر را می‌توان بیان نمود؟
- ۱) در نمودار طیف جذبی رنگیزه‌های فتوسنتزی، میزان دقیق O_2 تولید شده، در محدودهٔ ۵۰۰ تا ۶۰۰ نانومتر قابل مشاهده است.
 - ۲) حداکثر جذب کاروتنوئیدها، بیانگر بالاترین طول موجی از طیف فتوسنتز است که این رنگیزه‌ها در آن طول موج توانایی جذب را دارند.
 - ۳) بدون در نظر گرفتن مقدار جذب رنگیزه‌ها در هر طول موج از محدودهٔ نور مرئی، میزان فتوسنتز در این بازه قابل ارزیابی است.
 - ۴) طول موج حداکثر جذب سبزینه (کلروفیل) a، در دو نوع سامانه تبدیل انرژی یکسان است.
- ۱۶- در خصوص فناوری‌های نوین زیستی، کدام مورد زیر نادرست است؟
- ۱) برای تولید گیاه پنبه مقاوم به آفت، ژن مربوط به سم، ابتدا در خارج از گیاه تکثیر می‌شود.
 - ۲) در علم بیوانفورماتیک، فرضیه‌های قابل آزمون بدون نیاز به بررسی داده‌ها انتخاب می‌شوند.
 - ۳) برای تشخیص بیماری ایدز قبل از بروز علائم اولیه، دمای موجود در خون فرد را استخراج می‌کنند.
 - ۴) به منظور تولید واکسن به روش مهندسی ژنتیک، از اطلاعات ژنتیکی عامل بیماری‌زا استفاده می‌شود.
- ۱۷- چند مورد، در ارتباط با تنهٔ چوبی شدهٔ درخت سیب، صحیح است؟
- الف - هر دو نوع کامبیوم، در تشکیل پوست درخت نقش اصلی را دارند.
 - ب - یاخته‌های همراه در منطقهٔ پوست درخت یافت می‌شوند.
 - ج - در منطقهٔ پوست، بعضی از یاخته‌ها به تدریج نسبت به گازها نفوذناپذیر می‌شوند.
 - د - در مجاورت پوست درخت، یاخته‌های به هم فشرده‌ای قرار دارند که به‌طور مداوم تکثیر می‌شوند.
- (۱) ۱ (۲) ۲ (۳) ۳ (۴) ۴
- ۱۸- با توجه به صفت گروه‌های خونی ABO، خانواده‌هایی را در نظر بگیرید که در آنها، پدران فقط دارای دگره I^A و مادران علاوه بر دگره I^A ، نوع دیگری دگره داشته باشند. تولد کدام دو فرزند در جمع فرزندان این خانواده‌ها محتمل است؟
- ۱) فرزندی دارای کربوهیدرات‌های A و B و فرزندی فقط دارای کربوهیدرات A
 - ۲) فرزندی دارای کربوهیدرات‌های A و B و فرزندی فقط دارای کربوهیدرات B
 - ۳) فرزندی فقط دارای کربوهیدرات A و فرزندی فقط دارای کربوهیدرات B
 - ۴) فرزندی فقط دارای کربوهیدرات A و فرزندی فاقد کربوهیدرات A و B
- ۱۹- مطابق با اطلاعات کتاب درسی، کدام عبارت دربارهٔ پوشش دولایه‌ای تخمک گیاه کدو، نادرست است؟
- ۱) به یک گل ناکامل تعلق دارد.
 - ۲) پس از انجام عمل لقاح باقی می‌ماند.
 - ۳) به‌طور کامل یاخته‌های بافت خورش را احاطه می‌کند.
 - ۴) از طریق پایه‌ای به دیوارهٔ بخش حجیم برچه، متصل است.

۲۰- مقدار مشخصی پپسین از بدن موجود زنده استخراج شده و به صورت خالص درآمده و فعالیت آن در محیط آزمایشگاه مورد بررسی‌های مکرر قرار گرفته است. کدام مورد، دربارهٔ این آنزیم درست است؟

- ۱) پیش‌ماده‌هایی دارد که از نظر نوع، ترتیب و تعداد واحدهای سازنده می‌توانند متفاوت باشند.
- ۲) تحت هر شرایط، حداکثر سرعت انجام واکنش را به مقدار یکسانی می‌رساند.
- ۳) می‌تواند واکنش‌های انجام‌نشده را با کاهش انرژی فعال‌سازی تسریع کند.
- ۴) در محیط قلیایی می‌تواند به حداکثر فعالیت خود برسد.

۲۱- با توجه به بخش‌های مورد نظر، کدام مورد درست است؟

- ۱) بخش ۲ همانند بخش ۱، دیواره‌ای دارد که یاخته‌های پوششی آن با فاصلهٔ زیادی از یکدیگر قرار گرفته‌اند.
- ۲) در بخش ۲ نسبت به بخش ۱، میزان ماده دفعی نیتروژن‌دار آلی کمتر است.



- ۳) با انقباض بخش ۲، جریان خون کلافک (گلومرول) کاهش می‌یابد.
- ۴) بخش ۱، در ادامه کلافک (گلومرول) را می‌سازد.

۲۲- مطابق با اطلاعات کتاب درسی، در نوعی جانور بی‌مهره، مویرگ‌ها در کنار یاخته‌ها قرار دارند و با کمک آب میان‌بافتی، تبادل مواد غذایی، دفعی و گازها به انجام می‌رسد. کدام عبارت، در مورد این جانور نادرست است؟

- ۱) همانند قورباغه، از طریق شبکهٔ مویرگی زیرپوستی تنفس می‌کند.
- ۲) همانند کرم کبد، هر دو نوع دستگاه تولیدمثلی نر و ماده را دارد.
- ۳) همانند پلاناریا، از بی‌مهرگان آزادی محسوب می‌شود.
- ۴) همانند کرم کدو، مجهز به دهان و لولهٔ گوارش است.

۲۳- در خصوص عضلهٔ دو سر بازوی یک فرد سالم، کدام موارد زیر درست است؟

- الف - از یک انتها به استخوان زند زبرین متصل است.
 - ب - از طریق دو زردپی به ناحیهٔ شانه اتصال دارد.
 - ج - آنزیمی دارد که با استفاده از اکسیژن و کراتین فسفات، کراتین می‌سازد.
 - د - اغلب با اکسایش نوعی بسپار آمین‌دار، انرژی موردنیاز خود را به‌دست می‌آورد.
- ۱) «الف» و «ب»
 - ۲) «الف»، «ج» و «د»
 - ۳) «ب»، «ج» و «د»
 - ۴) «الف»، «ب»، «ج» و «د»

۲۴- کدام مورد، دربارهٔ گیرنده‌های شنوایی گوش انسان، نادرست است؟

- ۱) به‌طور یکنواخت در لابه‌لای یاخته‌های پوششی توزیع شده‌اند.
- ۲) ناقلین عصبی را در مجرای میانی بخش حلزونی آزاد می‌کنند.
- ۳) همانند نوعی گیرندهٔ حواس پیکری در اثر ارتعاش تحریک می‌شوند.
- ۴) رشته‌های عصبی مرتبط با آنها، از کنار یاخته‌های پوششی عبور می‌کنند.

۲۵- کدام عبارت در خصوص زندگی گروهی زنبورهای عسل، درست است؟

- ۱) همهٔ زنبورهای کارگر، از تخمک بارورنشدهٔ ملکه به‌وجود می‌آیند.
- ۲) زنبورهایی که در جمع‌آوری شهد و گرده گل‌ها نقش دارند، ماده هستند.
- ۳) زنبور یابنده همواره محل دقیق منبع غذایی را به زنبورهای کارگر اطلاع می‌دهد.
- ۴) گیرنده‌های نوری زنبورهای کارگر، منحصرأ پرتوهای فرابنفش را دریافت می‌کنند.

- ۲۶- در کشاورزی، از نوعی تنظیم‌کننده رشد گیاهی، جهت ممانعت از ریزش برگ استفاده می‌شود. کدام دو نقش زیر به این هورمون اختصاص دارد؟
- ۱) کنترل علف‌های هرز و بالا بردن کیفیت میوه‌ها
 - ۲) سریع خارج کردن جوانه‌های برنج از آب و زرد نمودن پوست موز نارس
 - ۳) پر شاخه‌وبرگ نمودن گیاه توتون و به خواب بردن بذرهای سیب‌زمینی
 - ۴) به تعویق انداختن گل‌دهی گیاه زنبق و تأخیر فرایند پیری در گل داوودی
- ۲۷- در ارتباط با فرایند پروتئین‌سازی در اشرشیاکلائی، کدام مورد غیرممکن است؟
- ۱) در زمانی که رشته پلی‌پپتیدی از رناتن (ریبوزوم) خارج می‌شود، جایگاه E رناتن خالی است.
 - ۲) پس از اینکه اتصال tRNA و توالی آمینواسیدها قطع شد، رناتن (ریبوزوم) به اندازه یک رمزه جابه‌جا می‌شود.
 - ۳) زمانی که جایگاه E رناتن (ریبوزوم) در حال خالی شدن است، tRNA حامل توالی آمینواسیدها در جایگاه A قرار دارد.
 - ۴) در زمانی که زیرواحد بزرگ رناتن (ریبوزوم) به زیرواحد کوچک آن متصل می‌شود، جایگاه E و A رناتن خالی است.
- ۲۸- کدام عبارت درست است؟
- ۱) همه جاندارانی که یون آمونیوم را مستقیماً از محیط دریافت می‌کنند، شیمیوسنتزکننده هستند.
 - ۲) در میکوریزا، رشته‌های ظریف قارچ‌ها در فضای بین یاخته‌های پوست ریشه گیاهان نفوذ می‌کند.
 - ۳) هنگام بارندگی‌های شدید، گیاه خاک (هوموس) می‌تواند به میزان زیاد یون‌های نیترات را حفظ نماید.
 - ۴) نیترژن تثبیت‌شده توسط ریزجانداران (میکروارگانیسیم‌ها)، فقط پس از مرگ آنها برای گیاهان قابل دسترس است.
- ۲۹- در خصوص یاخته عصبی حسی مربوط به انعکاس عقب کشیدن دست انسان، چند مورد زیر درست است؟
- الف - تعداد آنها کمتر از تعداد یاخته‌های عصبی حرکتی است.
 - ب - طول دارینه (دندریت) آن، از طول آسه (آکسون) اش بیشتر است.
 - ج - دارینه آن و آسه یاخته عصبی حرکتی، در تمام طول در مجاورت یکدیگر قرار دارند.
 - د - از یک نقطه جسم یاخته‌ای آن، زائده‌ای خارج و سپس دوشاخه شده است.
- ۱) ۱ ۲) ۲ ۳) ۳ ۴) ۴
- ۳۰- با فرض اینکه در نوعی گیاه نهان‌دانه، یاخته میله حامل ژن A و ژن نمود (ژنوتیپ) تخم ضمیمه تشکیل شده ABB باشد، کدام ژن نمود را می‌توان، به ترتیب (از راست به چپ)، برای یاخته بافت خورش و یاخته کیسه‌گرده مربوط به این تخم در نظر گرفت؟
- ۱) AA و AB ۲) AB و BB ۳) BB و BB ۴) AA و AB
- ۳۱- کدام مورد درباره دستگاه تولیدمثلی یک مرد جوان، درست است؟
- ۱) زامه (اسپرم)ها پس از تولید، ابتدا توسط یک مجرای واحد به لوله‌ای پیچیده و طویل وارد می‌شوند.
 - ۲) غده‌ای که در پشت راست روده قرار دارد، انرژی لازم برای فعالیت زامه (اسپرم)ها را فراهم می‌کند.
 - ۳) مجرای زامه‌بر از پشت بخش انتهایی میزنای عبور کرده و ترشحات غده وریکول سمینال را دریافت می‌کند.
 - ۴) مجرای محتوی زامه (اسپرم)ها و مایعی غنی از فروکتوز، در درون نوعی اندام، به میزراه متصل می‌شود.
- ۳۲- فرد ایستاده‌ای را در نظر بگیرید که پاهایش را جفت کرده، دستانش را آویزان نموده و کف آنها را به سمت جلو قرار داده است. به طور معمول کدام مورد، درباره این فرد نادرست است؟ (در نظر بگیرید منظور از سر استخوان زند زبرین و زیرین، هر یک بخشی است که با استخوان بازو مفصل تشکیل می‌دهد.)
- ۱) استخوان‌های قطورتر دو ساق پا نسبت به استخوان‌های نازک‌تر آن دو، به یکدیگر نزدیک‌ترند.
 - ۲) استخوان زند زیرین نسبت به استخوان زند زبرین به بخش محوری اسکلت نزدیک‌تر است.
 - ۳) سر استخوان زند زبرین نسبت به سر استخوان زند زیرین در موقعیت بالاتری قرار دارد.
 - ۴) استخوان قطورتر ساق پا، نسبت به استخوان بازو طول بیشتری دارد.

- ۳۳- مطابق با مطالب کتاب درسی، همهٔ فرایندهای آزاد شدن انرژی از گلوکز را که در گیاهان می‌تواند رخ دهد، در نظر بگیرید. در کدام مورد، تولید یون مثبت غیرممکن است؟
- (۱) در واکنشی که پیش‌ماده، قندی دوفسفاته و فراورده‌ها قندهای تک‌فسفاته هستند.
 - (۲) در واکنشی که فراورده نسبت به پیش‌ماده، یک گروه فسفات بیشتر دارد.
 - (۳) در واکنشی که فراورده نسبت به پیش‌ماده، اتم اکسیژن کمتری دارد.
 - (۴) در واکنشی که پیش‌ماده و فراورده هر دو سه کربنی هستند.
- ۳۴- کدام مورد، برای تکمیل عبارت زیر مناسب است؟
- «به‌طور معمول، همهٔ یاخته‌هایی از مراحل تخمک‌زایی که در تخمدان»
- (۱) یک خانم جوان به‌وجود می‌آیند، دنا سیئوپلاسمی یکسانی دارند
 - (۲) یک جنین دختر یافت می‌شوند، دو مجموعه فام‌تن (کروموزوم) دارند
 - (۳) یک دختر جوان یافت می‌شوند، در مجاورت با ساختاری مخاطی و مژک‌دار قرار خواهند گرفت
 - (۴) یک نوزاد دختر وجود دارند، دارای چهارتایه (تتراد)هایی هستند که همگی در وسط یاخته بر روی رشته‌های دوک ردیف شده‌اند
- ۳۵- دو بخش از هیپوتالاموس انسان را در نظر بگیرید که هورمون‌های بخش پسین هیپوفیز را می‌سازند. در ارتباط با بخشی که نسبت به بخش دیگر در موقعیت پایین‌تری قرار دارد، چند مورد زیر درست است؟ (در نظر بگیرید فرد به حالت ایستاده است و سر، گردن و تنهٔ او در یک راستا قرار دارند).
- الف - در مقایسه با بخش دیگر، با آسه (آکسون)هایی مرتبط است که طول بسیار بلندتری دارد.
 - ب - پایانه‌های آسه (آکسون)های مرتبط با آن در ساقهٔ هیپوفیز قرار دارد.
 - ج - جسم یاخته‌های عصبی مرتبط با آن در درون استخوان کف جمجمه است.
 - د - در مقایسه با بخش دیگر، با آسه (آکسون)هایی ارتباط دارد که به هیپوفیز پیشین نزدیک‌تر است.
- (۱) ۱ (۲) ۲ (۳) ۳ (۴) ۴
- ۳۶- با توجه به مطالب کتاب درسی، کدام عبارت دربارهٔ یک نوجوان سالم (N)، همان فرد ۱۰ روز پس از آخرین مصرف کوکائین (T) و همان فرد ۱۰۰ روز پس از آخرین مصرف این ماده مخدر (H)، نادرست است؟
- (۱) در حالت T نسبت به حالت N، احتمال افسردگی بیشتر است.
 - (۲) در حالت H، توانایی قضاوت و یادگیری کمتر از حالت N است.
 - (۳) در حالت H، میزان فعالیت بخش پیشین مغز به اندازهٔ حالت N رسیده است.
 - (۴) در حالت H نسبت به حالت T، مشکلات احتمالی بینایی می‌تواند رو به بهبود باشد.
- ۳۷- در صورت بروز کدام رخداد، یک یاختهٔ طبیعی می‌تواند دستخوش ناهنجاری ساختاری در فام‌تن شود؟
- (۱) مبادله دو قطعه از فام‌تن (کروموزوم)های هم‌تا در کاستمان (میوز) ۲
 - (۲) قرارگیری نوکلئوتید A به جای T، در رمز مربوط به ششمین آمینواسید
 - (۳) جدا نشدن فام‌تن (کروموزوم)های شماره ۲۱ از یکدیگر طی مراحل تخمک‌زایی
 - (۴) جدا شدن قطعه‌ای از یک فام‌تن (کروموزوم) و اتصال آن به محل جدیدی بر روی همان فام‌تن
- ۳۸- در ارتباط با بخشی از پوست انسان که برای مدت طولانی تحت تأثیر اشعهٔ فرابنفش خورشید قرار گرفته، کدام مورد، به‌طور حتم رخ می‌دهد؟
- (۱) ورود یاخته‌ها به مرحلهٔ G_۰
 - (۲) تغییر فعالیت نوعی پروتئین
 - (۳) مرگ برنامه‌ریزی‌شدهٔ یاخته‌ها
 - (۴) افزایش سرعت تقسیم یاخته‌ها
- ۳۹- به‌منظور تهیهٔ کاربوتیپ یک فرد مبتلا به نشانگان داون، از فام‌تن (کروموزوم)های کدام مرحله یا مراحل تقسیم یاخته، می‌توان استفاده کرد؟
- (۱) انتهای آنافاز
 - (۲) تلوفاز
 - (۳) متافاز
 - (۴) تلوفاز و پرومتافاز

دفترچه

شماره

۲

دفترچه شماره ۲

صبح جمعه

۱۴۰۴/۰۴/۲۷



جمهوری اسلامی ایران
وزارت علوم، تحقیقات و فناوری
سازمان متجش آموزش کشور

در زمینه مسائل علمی باید دنبال قله بود.
مقام معلّم رهبری

آزمون اختصاصی (سراسری) ورودی دانشگاهها و مؤسسات آموزش عالی - نوبت دوم سال ۱۴۰۴

گروه آزمایشی علوم تجربی



تعداد سوالات : ۶۵ - مدت زمان پاسخ‌گویی : ۷۵ دقیقه

ردیف	ماده امتحانی	تعداد سؤال	از شماره	تا شماره	زمان پاسخ‌گویی
۱	فیزیک	۳۰	۴۴	۷۵	۴۰ دقیقه
۲	شیمی	۳۵	۷۶	۱۱۰	۳۵ دقیقه

استفاده از ماشین حساب ممنوع است

این آزمون نمره منفی دارد

حل چاپ‌کننده و انتشار سؤالات به هر روش (الکترونیکی و ...) پس از برگزاری آزمون، برای تمامی اشخاص حقوقی و حقوقی تنها با مجوز این سازمان مجاز می‌باشد و یا منتظرین بر اثر مقررات رفتار می‌شود

* داوطلب گرامی، عدم درج مشخصات و امضا در مندرجات جدول زیر، به منزله عدم حضور شما در جلسه آزمون است.

اینجانب با شماره داوطلبی با آگاهی کامل، یکسان بودن شماره صندلی خود را با شماره داوطلبی مندرج در بالای کارت ورود به جلسه، بالای پاسخنامه و دفترچه سؤالات، نوع و کد کنترل درج شده بر روی دفترچه سؤالات تأیید می‌نمایم.

امضا:

۴۶- از کدام دماسنج، بدون تماس دماسنج با جسمی که می‌خواهیم دمای آن را اندازه بگیریم، استفاده می‌شود؟

- (۱) ترموکوپل
(۲) تفسنج
(۳) دماسنج جیوه‌ای
(۴) دماسنج مقاومت پلاتینی

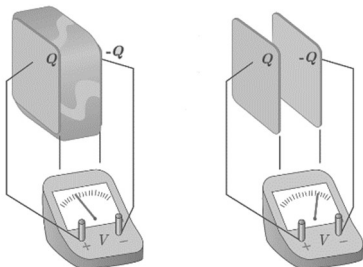
۴۷- نسبت انرژی فوتونی با طول موج 400 nm به انرژی فوتونی با طول موج 600 nm کدام است؟

- (۱) $0,44$ (۲) $0,67$ (۳) $1,50$ (۴) $2,25$

۴۸- یک چشمه صوت ساکن است و شنونده‌ای در حال دور شدن از آن است. کدام مورد در مقایسه با حالتی که این دو نسبت به هم ساکن‌اند، درست است؟

- (۱) بسامدی که شنونده می‌شنود کاهش می‌یابد و طول موج دریافتی توسط شنونده ثابت می‌ماند.
(۲) بسامدی که شنونده می‌شنود افزایش می‌یابد و طول موج دریافتی توسط شنونده ثابت می‌ماند.
(۳) بسامدی که شنونده می‌شنود کاهش می‌یابد و طول موج دریافتی توسط شنونده کوتاه‌تر می‌شود.
(۴) بسامدی که شنونده می‌شنود افزایش می‌یابد و طول موج دریافتی توسط شنونده بلندتر می‌شود.

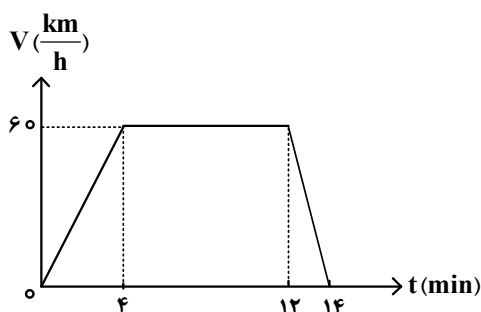
۴۹- در شکل زیر، صفحه‌های باردار یک خازن تخت را که بین آنها هوا است، به ولت‌سنج وصل می‌کنیم، اگر دی‌الکتریک



در بین صفحات قرار دهیم، کدام مورد درست است؟

- (۱) انرژی ذخیره‌شده بین صفحه‌های خازن افزایش می‌یابد.
(۲) انرژی ذخیره‌شده بین صفحه‌های خازن ثابت می‌ماند.
(۳) بار روی صفحه‌های خازن افزایش می‌یابد.
(۴) بار روی صفحه‌های خازن ثابت می‌ماند.

۵۰- متحرکی بر روی مسیر مستقیم حرکت می‌کند. نمودار سرعت - زمان این متحرک مطابق شکل زیر است. این متحرک



در مدت ۱۳ دقیقه چند کیلومتر طی می‌کند؟

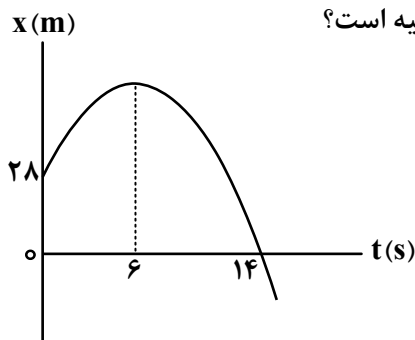
- (۱) ۹,۵
(۲) ۱۰,۷۵
(۳) ۱۱,۵
(۴) ۱۲,۲۵

محل انجام محاسبات

۵۱- متحرکی در لحظه $t_1 = 0s$ روی محور x از حال سکون، با شتاب ثابت، شروع به حرکت می‌کند. اگر در بازه زمانی $t_1 = 0s$ تا $t_2 = 12s$ ، مسافت $216m$ را طی کند، در کدام بازه زمانی داده شده بر حسب ثانیه، مسافت 36 متر را طی می‌کند؟

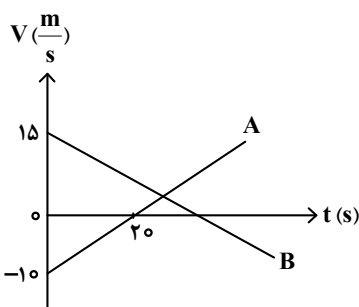
- (۱) ۷ تا ۹ (۲) ۶ تا ۸ (۳) ۵ تا ۷ (۴) ۴ تا ۶

۵۲- نمودار مکان - زمان متحرکی که با شتاب ثابت حرکت می‌کند، مطابق شکل زیر است. بزرگی سرعت متوسط متحرک در بازه زمانی که بردار مکان متحرک در جهت محور x است، چند متر بر ثانیه است؟



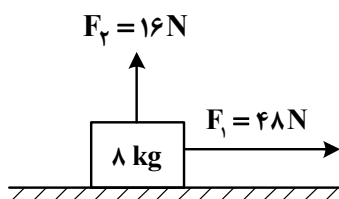
- (۱) $\frac{23}{7}$
(۲) $\frac{2}{7}$
(۳) ۲
(۴) ۱۴

۵۳- نمودار سرعت - زمان دو متحرک A و B که روی محور x حرکت می‌کنند، مطابق شکل زیر است. مکان دو متحرک در لحظه $t = 0s$ به صورت $\vec{x}_{o_A} = (-100m)\vec{i}$ و $\vec{x}_{o_B} = (100m)\vec{i}$ است. اگر در لحظه‌ای که متحرک B تغییر جهت می‌دهد، متحرک A در مکان $\vec{x} = (-175m)\vec{i}$ باشد، فاصله دو متحرک در این لحظه چند متر است؟



- (۱) ۵۲۵
(۲) ۵۰۰
(۳) ۴۰۰
(۴) ۲۰۰

۵۴- مطابق شکل زیر، جسمی با سرعت ثابت روی سطح افقی در حال حرکت است. نیروی \vec{F}_1 موازی سطح و نیروی \vec{F}_2 عمود بر سطح به جسم وارد می‌شود. اگر نیروی \vec{F}_2 را $16N$ افزایش دهیم، کدام مورد راجع به نیرویی که سطح به

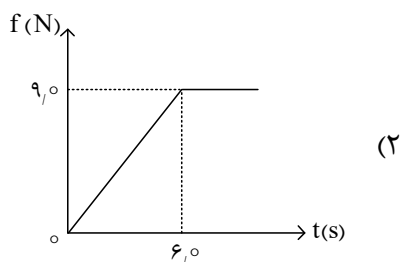
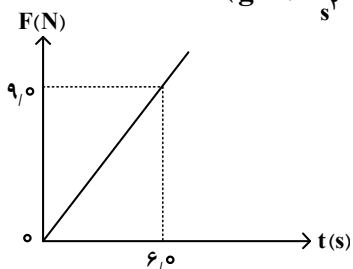


جسم وارد می‌کند، درست است؟

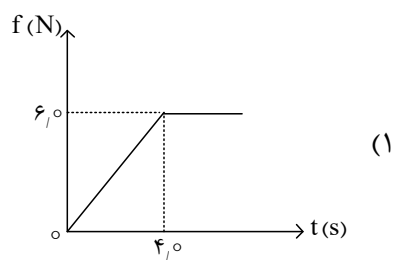
- (۱) بزرگی آن ثابت می‌ماند.
(۲) بزرگی آن افزایش می‌یابد.
(۳) زاویه‌ای که با نیروی F_1 می‌سازد، کاهش می‌یابد.
(۴) زاویه‌ای که با نیروی F_1 می‌سازد، تغییر نمی‌کند.

محل انجام محاسبات

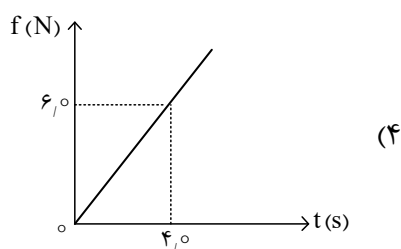
۵۵- جسمی به جرم 3 kg بر روی یک سطح افقی قرار دارد. ضریب اصطکاک بین جسم و سطح برابر با 0.2 است. یک نیروی افقی متغیر با زمان، مطابق نمودار زیر، به جسم وارد می‌شود. نمودار نیروی اصطکاک بر حسب زمان کدام است؟ (ضریب اصطکاک جنبشی و ضریب اصطکاک ایستایی یکسان فرض شود و $g = 10 \frac{\text{m}}{\text{s}^2}$)



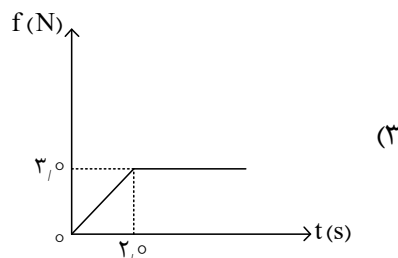
(۲)



(۱)



(۴)

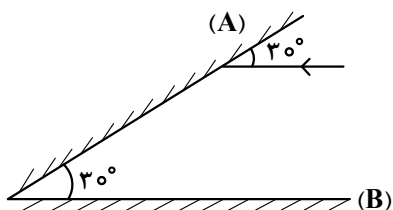


(۳)

۵۶- شعاع سیاره‌ای دو برابر شعاع زمین و جرم آن نیز دو برابر جرم زمین است. وزن یک جسم یک کیلوگرمی بر روی این سیاره چند برابر وزن جسم یک کیلوگرمی روی زمین است؟

- (۱) $\frac{3}{2}$ (۲) $\frac{1}{2}$ (۳) ۱ (۴) ۲

۵۷- در شکل زیر، پرتو نوری با زاویه 30° به آینه (A) می‌تابد و پس از بازتاب به آینه (B) می‌تابد. زاویه تابش در دومین برخورد به آینه (A) چند درجه است؟



- (۱) ۹۰
(۲) ۶۰
(۳) ۳۰
(۴) صفر

۵۸- جسمی به جرم 2.0 kg به فنری با ثابت $2.0 \frac{\text{N}}{\text{cm}}$ متصل است و در راستای افقی با دامنه 8.0 cm نوسان می‌کند. وقتی تندی جسم $4.0 \frac{\text{cm}}{\text{s}}$ است، انرژی پتانسیل کشسانی آن چند ژول است؟ (از نیروهای اتلافی چشم‌پوشی شود.)

- (۱) ۰.۴۸ (۲) ۰.۳۲ (۳) ۰.۱۶ (۴) ۰.۶۴

۵۹- ذره‌ای حرکت نوسانی ساده با دامنه 7 mm انجام می‌دهد. اگر بیشترین تندی این ذره $\frac{4}{5} \text{ m/s}$ باشد، دوره تناوب

حرکت کدام است؟ $(\pi = \frac{22}{7})$

- (۱) 0.12 (۲) 0.11 (۳) 0.02 (۴) 0.01

۶۰- یک نوسان‌ساز، موج‌هایی دوره‌ای در یک ریسمان کشیده شده ایجاد می‌کند، اگر کشش ریسمان را افزایش دهیم، «تندی موج»، «دوره تناوب موج» و «طول موج»، به ترتیب، چه تغییری می‌کنند؟

- (۱) افزایش می‌یابد، ثابت می‌ماند و کاهش می‌یابد. (۲) کاهش می‌یابد، افزایش می‌یابد و ثابت می‌ماند.
(۳) افزایش می‌یابد، ثابت می‌ماند و افزایش می‌یابد. (۴) ثابت می‌ماند، کاهش می‌یابد و افزایش می‌یابد.

۶۱- توان باریکه نور خروجی یک لیزر گازی 663 mW است. اگر طول موج این باریکه 600 nm باشد، تعداد فوتون‌هایی

که در هر دقیقه از این لیزر گسیل می‌شود، چقدر است؟ $(h = 6.63 \times 10^{-34} \text{ J.s}$ و $c = 3 \times 10^8 \text{ m/s}$)

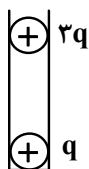
- (۱) 2×10^{20} (۲) 1.2×10^{20} (۳) 2×10^{18} (۴) 1.2×10^{18}

۶۲- اگر λ_1 بلندترین و λ_2 کوتاه‌ترین طول موج در رشته پفوند ($n' = 5$) در اتم هیدروژن باشند، نسبت $\frac{\lambda_1}{\lambda_2}$ کدام است؟

- (۱) $\frac{36}{11}$ (۲) $\frac{36}{13}$ (۳) $\frac{900}{115}$ (۴) $\frac{900}{215}$

۶۳- در شکل زیر، دو گوی باردار که جرم هر یک $7.5 \mu\text{g}$ است در فاصله 3 cm از هم قرار دارند، به طوری که گوی بالایی

معلق مانده است. تعداد الکترون‌های کنده شده از گوی بالایی چقدر است؟ $(k = 9 \times 10^9 \frac{\text{N.m}^2}{\text{C}^2}$ و $g = 10 \frac{\text{m}}{\text{s}^2}$)



(۱) 3.125×10^{10}

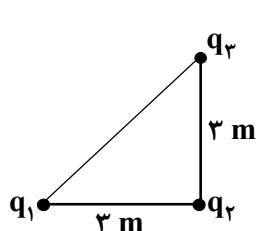
(۲) 9.375×10^8

(۳) 3.125×10^8

(۴) 9.375×10^{10}

۶۴- سه ذره باردار مطابق شکل زیر، در سه رأس مثلث قائم‌الزاویه‌ای ثابت شده‌اند. اگر نیروی الکتریکی خالص وارد بر

بار q_2 در SI، $\vec{F}_T = 8 \times 10^{-3} \vec{i} + 6 \times 10^{-3} \vec{j}$ باشد، $\frac{q_2}{q_1}$ کدام است؟ $(k = 9 \times 10^9 \frac{\text{N.m}^2}{\text{C}^2})$



(۲) $-\frac{3}{4}$

(۱) $-\frac{3}{2}$

(۴) $\frac{3}{4}$

(۳) $\frac{3}{2}$

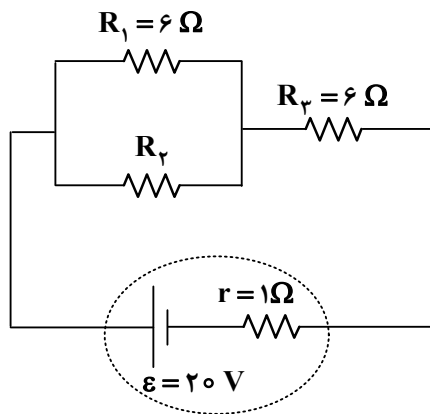
محل انجام محاسبات

۶۵- دو میله فلزی A و B، طول و مقاومت الکتریکی یکسانی دارند. اگر مقاومت ویژه میله A، دو برابر مقاومت ویژه میله B باشد و چگالی آن، ۳ برابر چگالی میله B باشد، جرم میله A چند برابر جرم میله B است؟

- (۱) $\frac{1}{6}$ (۲) $\frac{2}{3}$ (۳) $\frac{3}{2}$ (۴) ۶

۶۶- در مدار زیر، مقاومت معادل $R_{eq} = 9 \Omega$ است. اگر جای مقاومت R_p و باتری عوض شود، توان مصرفی در مقاومت

R_p چند وات تغییر می‌کند؟

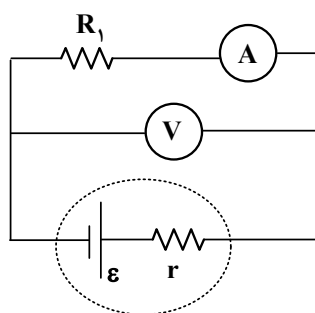


- (۱) ۱۸
(۲) ۶
(۳) $\frac{14}{3}$
(۴) صفر

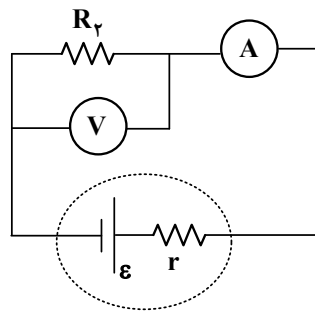
۶۷- در مدارهای شکل زیر، مقاومت آمپرسنج و ولت‌سنج، به ترتیب، 5Ω و 180Ω است. اگر در مدار «الف» آمپرسنج

$1/6 A$ و ولت‌سنج $72 V$ را نشان دهد و در مدار «ب» آمپرسنج $0.82 A$ و ولت‌سنج $73.8 V$ را نشان دهد، R_1

و R_p چند اهم هستند؟



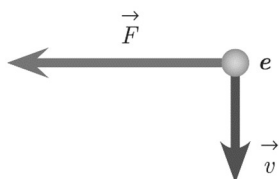
«الف»



«ب»

- (۱) ۹۰ و ۴۰
(۲) ۹۰ و ۵۰
(۳) ۱۸۰ و ۴۰
(۴) ۱۸۰ و ۵۰

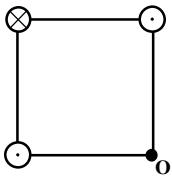
۶۸- الکترونی عمود بر میدان مغناطیسی یکنواختی در حرکت است. با توجه به شکل زیر، جهت میدان مغناطیسی کدام است؟



- (۱) درون‌سو
(۲) برون‌سو
(۳) راست
(۴) بالا

محل انجام محاسبات

۶۹- سه سیم راست موازی و بسیار بلند، حامل جریان‌های مساوی، در سه رأس یک مربع قرار دارند. میدان مغناطیسی خالص در رأس چهارم (نقطه O) به کدام سو است؟



۷۰- پیچهای شامل ۲۰۰ دور سیم که مساحت هر حلقه آن 50 cm^2 است، عمود بر میدان مغناطیسی یکنواختی قرار دارد. در مدت 2 ms اندازه میدان از 0.5 T به 0.45 T کاهش می‌یابد. اگر مقاومت پیچه 20Ω باشد، جریان القایی متوسط که از پیچه می‌گذرد، چند آمپر است؟

(۱) ۲٫۵ (۲) ۱٫۵ (۳) ۱٫۲۵ (۴) ۰٫۵

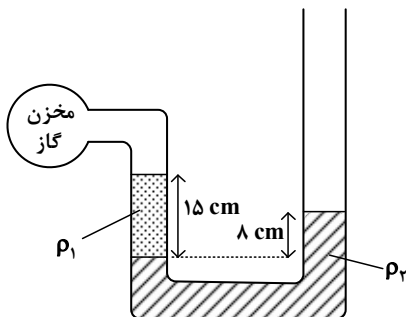
۷۱- یک پوسته کروی به شعاع داخلی a و شعاع خارجی $b = 2a$ از ماده‌ای با چگالی $\rho = \frac{30}{7\pi} \frac{\text{g}}{\text{cm}^3}$ ساخته شده است.

اگر جرم این پوسته $m = 4.0 \times 10^{-2} \text{ kg}$ باشد، a چند سانتی‌متر است؟

(۱) ۲٫۰ (۲) ۱٫۸ (۳) ۱٫۲ (۴) ۱٫۰

۷۲- مطابق شکل، درون لوله U شکلی که به یک مخزن گاز وصل شده است، دو مایع با چگالی‌های $\rho_1 = 1.2 \frac{\text{g}}{\text{cm}^3}$ و

$\rho_2 = 1.57 \frac{\text{g}}{\text{cm}^3}$ وجود دارد. فشار پیمانه‌ای مخزن گاز چند میلی‌متر جیوه است؟ ($\rho_{\text{جیوه}} = 13.6 \frac{\text{g}}{\text{cm}^3}$)



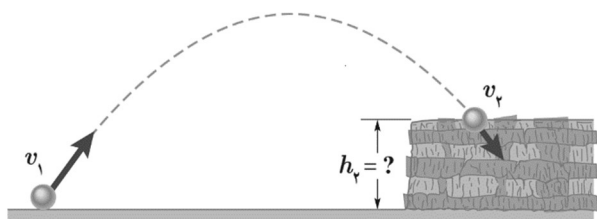
(۱) -۴
(۲) -۲٫۵
(۳) -۲۵
(۴) -۴۰

محل انجام محاسبات

۷۳- از بالونی که در ارتفاع ۱۰۰ متری زمین و با تندی $5 \frac{m}{s}$ در پرواز است، بسته‌ای به جرم 20 kg رها می‌شود و با تندی $25 \frac{m}{s}$ به زمین برخورد می‌کند. کار کل انجام‌شده بر روی بسته، از لحظه رها شدن تا رسیدن به زمین، چند کیلوژول است؟ ($g = 10 \frac{m}{s^2}$)

- (۱) ۱۲ (۲) ۶ (۳) ۶- (۴) ۱۲-

۷۴- تویی مطابق شکل از سطح زمین با تندی $20 \frac{m}{s}$ به طرف صخره‌ای پرتاب می‌شود. اگر توپ با تندی $12 \frac{m}{s}$ به بالای صخره برخورد کند، ارتفاع h_p چند متر است؟ (مقاومت هوا ناچیز فرض شود و $g = 10 \frac{m}{s^2}$)



- (۱) ۴۰ (۲) ۲۵٫۶ (۳) ۲۰ (۴) ۱۲٫۸

۷۵- 4 kg آب را درون یک کتری برقی با توان الکتریکی 2 kW می‌ریزیم و آن را روشن می‌کنیم. از شروع جوشیدن تا تبخیر همه آب درون کتری، این فرایند چند دقیقه طول می‌کشد؟ (فرض کنید تمام انرژی الکتریکی تبدیل شده به انرژی گرمایی، به آب می‌رسد. $L_V = 2256 \frac{\text{kJ}}{\text{kg}}$)

- (۱) ۷۵٫۲ (۲) ۳۷٫۶ (۳) ۷٫۵۲ (۴) ۳٫۷۶

محل انجام محاسبات

۷۶- عنصر با گرفتن یا از دست دادن الکترون، به آرایش الکترونی گاز نجیب هم‌دوره خود می‌رسد.

(۱) Y ، ۲ ، ۳۴ (۲) D ، ۳ ، ۳۱ (۳) M ، ۳ ، ۲۱ (۴) Z ، ۴ ، ۳۲

۷۷- کدام موارد درباره «جدول تناوبی عناصرها» درست است؟

الف - تفاوت عدد اتمی قوی‌ترین نافلز گروه ۱۶ و قوی‌ترین فلز دوره دوم، برابر ۶ است.

ب - تفاوت عدد اتمی قوی‌ترین نافلز جامد دوره سوم و نخستین عنصر واسطه دوره چهارم، برابر ۵ است.

ج - شمار عنصرهای میان نخستین شبه‌فلز گروه ۱۴ و دومین نافلز دوره سوم، برابر عدد اتمی یک گاز نجیب جدول است.

د - مجموع اعداد کوانتومی اصلی و فرعی الکترون‌های ظرفیت نافلز مایع دوره چهارم، برابر با عدد اتمی یکی از عنصرهای گروه ۱۵ است.

(۱) «الف» و «ب» (۲) «الف» و «ج» (۳) «ب» و «د» (۴) «ج» و «د»

۷۸- اتم عنصر A ، دارای ۱۲ الکترون در زیرلایه p است. اگر بیرونی‌ترین زیرلایه آن، ns^2 باشد، کدام مورد درباره این عنصر، نادرست است؟

(۱) محلول نمک‌های آن با عددهای اکسایش مختلف، می‌تواند رنگی باشد.

(۲) در اتم آن، شمار الکترون‌های $l = 0$ ، می‌تواند با شمار الکترون‌های $l = 2$ ، برابر باشد.

(۳) فرمول شیمیایی ترکیب حاصل از واکنش آن با کلر، می‌تواند XCl_3 یا XCl_4 ، باشد.

(۴) در اتم آن، شمار الکترون‌های $l = 0$ ، می‌تواند دو برابر شمار الکترون‌های $l = 2$ ، باشد.

۷۹- کدام مورد درست است؟ ($Na = 23, Al = 27, Ar = 40, Ca = 40: g.mol^{-1}$)

(۱) با توجه به جایگاه عناصر در جدول، جرم یک مول Zn^{2+} ، می‌تواند با تقریب خوبی، برابر با جرم یک مول Cu^+ باشد.

(۲) جرم یک مول اتم روبیدیم، با تقریب خوبی، برابر با جرم یک مول از یون پایدار آن است.

(۳) شمار اتم‌ها در یک مول سدیم، 0.575 برابر شمار اتم‌ها در یک مول کلسیم است.

(۴) جرم 1.5 مول گاز آرگون، بیشتر از جرم 1.8×10^{24} اتم آلومینیم است.

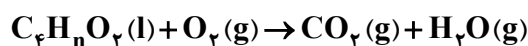
۸۰- اگر میانگین دمای هوای یک منطقه از سطح زمین، برابر $24^\circ C$ باشد، در چه ارتفاعی با یکای کیلومتر، دمای هوا

نسبت به سطح زمین، ۸۰ درصد کاهش می‌یابد؟ (دمای هوا به ازای هر کیلومتر ارتفاع، $6^\circ C$ کاهش می‌یابد).

(۱) 1.6 (۲) 6.4 (۳) 4.8 (۴) 3.2

۸۱- اگر 0.3 مول از ترکیبی با فرمول شیمیایی $C_4H_nO_2$ با 48 گرم گاز اکسیژن (مطابق معادله زیر) واکنش کامل

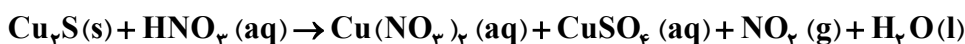
دهد، این ترکیب چند اتم هیدروژن دارد؟ (معادله واکنش موازنه شود، $O = 16 g.mol^{-1}$)



(۱) 4 (۲) 6 (۳) 8 (۴) 10

محل انجام محاسبات

۸۲- درباره واکنش داده شده، پس از موازنه معادله آن، کدام مورد درست است؟



- (۱) ضریب استوکیومتری فرآورده گازی با ضریب استوکیومتری اسید، برابر است.
 (۲) به ازای مصرف ۰٫۷۵ مول نمک، ۱۲۰ گرم نمک دارای سولفات، تشکیل می شود.
 (۳) در این واکنش، تغییر عدد اکسایش مس، برابر با تغییر عدد اکسایش هیدروژن است.
 (۴) اگر ۰٫۳۲ مول فرآورده غیرگازی تشکیل شود، ۴٫۶ گرم واکنش دهنده جامد مصرف شده است.
- ۸۳- درباره ویژگی های مولکول های آمونیاک، کلروفرم، دی متیل اتر و هگزان، کدام موارد زیر درست است؟

الف - گشتاور دوقطبی تنها یک مولکول، برابر صفر است.

ب - در دمای اتاق، حالت فیزیکی تنها دو ماده، مایع است.

ج - اتم های جانبی در مولکول های آمونیاک و کلروفرم، بار جزئی منفی دارند.

د - در یک مولکول، قوی ترین نیروی جاذبه بین مولکولی، به وجود هیدروژن در ساختار آن وابسته است.

(۱) «الف» و «ب» (۲) «الف» و «ج» (۳) «ب» و «د» (۴) «ج» و «د»

۸۴- اگر در دمای معین، درصد جرمی محلول سیرشده از یک نمک، برابر ۲۰ باشد، در ۲۰۰ گرم آب مقطر، چند گرم از این نمک حل می شود و انحلال پذیری آن در این دما، چند گرم در ۱۰۰ گرم آب است؟

(۱) ۲۵ و ۵۰ (۲) ۴۰ و ۲۰ (۳) ۴۰ و ۲۵ (۴) ۵۰ و ۲۰

۸۵- مخلوطی از دو ماده A و D در یک لوله آزمایش، به شدت هم زده و سپس هم زدن آنها متوقف می شود. A و D از یکدیگر جدا شده و دو لایه مجزا تشکیل می دهند. اگر D در انتهای لوله و A، روی آن جای داشته باشد، کدام مورد درست است؟

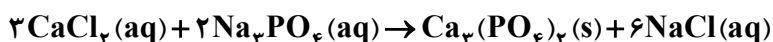
(۱) A می تواند یک محلول و D، حلال خالص آن باشد.

(۲) A و D می توانند دو حالت فیزیکی متفاوت باشند.

(۳) A و D می توانند دو محلول آبی با حل شونده های متفاوت باشند.

(۴) اگر جرم A و D، برابر باشد، حجم A به یقین، کمتر از حجم D است.

۸۶- اگر ۸۰۰ میلی لیتر محلول کلسیم کلرید، در واکنش کامل با ۱۲۰۰ میلی لیتر محلول Na_3PO_4 ، ۰٫۷۲ مول سدیم کلرید تشکیل دهد، مجموع غلظت مولی یون ها در محلول آغازی کلسیم کلرید، کدام است؟



(۱) ۲٫۷۰ (۲) ۰٫۵۴ (۳) ۰٫۲۷ (۴) ۱٫۳۵

محل انجام محاسبات

۸۷- فرمول مولکولی یک ترکیب آلی غیرحلقوی، مشابه فرمول مولکولی «هگزن» است. کدام مورد دربارهٔ ویژگی ساختاری این ترکیب، به یقین درست است؟

(۱) شمار پیوندهای دوگانه در زنجیرهٔ کربنی مولکول آن، برابر یک است.

(۲) شمار شاخه‌های فرعی در زنجیرهٔ کربنی مولکول آن، برابر صفر است.

(۳) شمار پیوندهای یگانهٔ کربن - کربن در زنجیرهٔ کربنی، نصف شمار اتم‌های هیدروژن در مولکول آن است.

(۴) شمار پیوندهای کربن - هیدروژن در زنجیرهٔ کربنی، دو برابر شمار پیوندهای یگانهٔ کربن - کربن در مولکول آن است.

۸۸- اگر درصد خلوص نوعی چربی و زغال‌سنگ، به ترتیب، برابر ۸۰ و ۵۰ در نظر گرفته شود، جرم زغال‌سنگ، چند برابر جرم چربی باشد تا گرمای تولیدشده از سوختن چربی، دو برابر گرمای تولیدشده از سوختن زغال‌سنگ شود؟ (ارزش سوختی چربی و زغال‌سنگ، به ترتیب برابر ۳۹ و ۳۰ کیلوژول بر گرم است و ناخالصی‌ها، گرما آزاد نمی‌کنند.)

(۱) ۰٫۵۲ (۲) ۰٫۲۶ (۳) ۲٫۰۸ (۴) ۱٫۰۴

۸۹- با توجه به ویژگی‌های عنصرهای «نقره، مس، پتاسیم و روی» کدام مقایسه دربارهٔ آنها درست است؟

(۱) کمترین تمایل برای تبدیل شدن به کاتیون: Cu (۲) آسان‌ترین نگهداری در شرایط یکسان: Zn

(۳) دشوارترین استخراج: K (۴) پایدارترین ترکیب‌ها: Ag

۹۰- در یک ظرف دو لیتری، ۳۲ گرم مخلوط متان و پروپین با مقدار کافی گاز هیدروژن واکنش می‌دهند تا فراورده(های) سیرشده تشکیل شود. اگر افزایش جرم مخلوط هیدروکربن‌ها، حداکثر برابر ۷٫۵ درصد جرم آغازی آنها باشد،

غلظت مولی آغازی گاز متان در ظرف واکنش، کدام بوده است؟ ($H = 1, C = 12: g.mol^{-1}$)

(۱) ۰٫۵۰ (۲) ۰٫۲۵ (۳) ۰٫۱۰ (۴) ۰٫۰۵

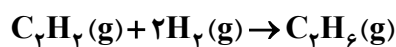
۹۱- نسبت جرم اتم‌های کربن به جرم اتم‌های هیدروژن، در کدام دو گروه از ترکیب‌های آلی، با افزایش شمار اتم‌های کربن ثابت می‌ماند؟

(۱) آمین‌ها و آمیدها (۲) سیکلوآلکان‌ها و آمیدها

(۳) آلکن‌ها و آمین‌ها (۴) آلکن‌ها و سیکلوآلکان‌ها

۹۲- گرمای آزادشده از چگالش ۳ مول کربن دی‌اکسید با گرمای حاصل از واکنش چند گرم اتین با مقدار کافی گاز هیدروژن، برابر است؟ (میانگین آنتالپی پیوند $C \equiv C$ ، $C - C$ و $C - H$ ، به ترتیب برابر ۸۴۰، ۳۵۰ و ۴۱۵ و

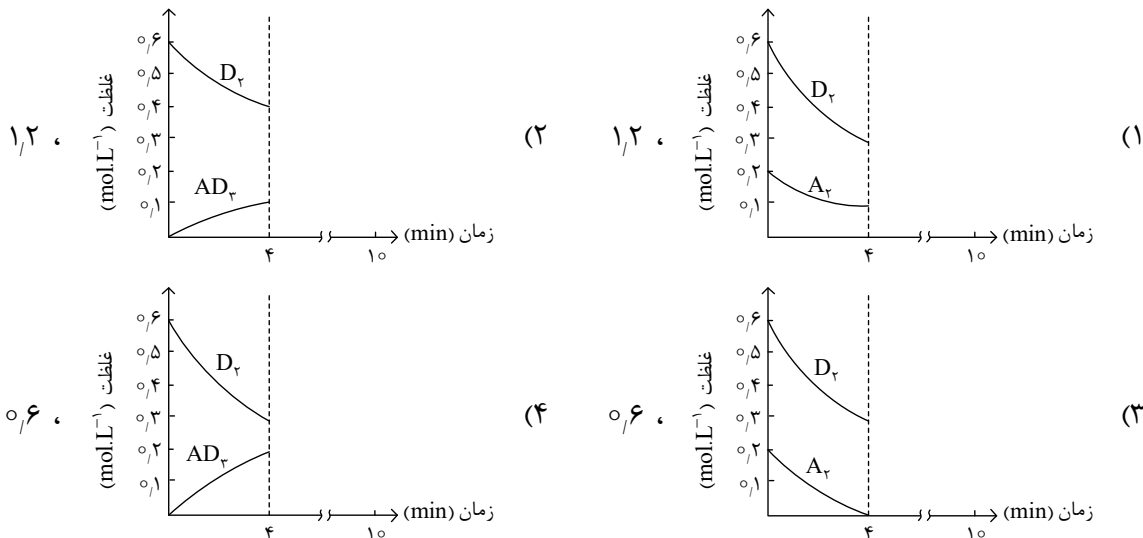
آنتالپی پیوند $H - H$ ، برابر ۴۳۵ کیلوژول بر مول در نظر گرفته شود، $H = 1, C = 12: g.mol^{-1}$)



(۱) ۱۳٫۰۰ (۲) ۳٫۲۵ (۳) ۶٫۵۰ (۴) ۹٫۷۵

محل انجام محاسبات

۹۳- گازهای A_p و D_p ، به ترتیب با غلظت مولی 0.2 و 0.6 وارد ظرف 2 لیتری در بسته می‌شود. اگر واکنش: $A_p(g) + D_p(g) \rightarrow AD_p(g)$ در مدت 10 دقیقه کامل شود، کدام نمودار (غلظت - زمان) برای 4 دقیقه آغازی این واکنش، می‌تواند درست باشد و پس از 4 دقیقه، با توجه به نمودار، چند مول گاز در ظرف وجود خواهد داشت؟ (واکنش در بازه زمانی گفته شده، یک طرفه در نظر گرفته و معادله آن، موازنه شود.)



۹۴- درباره نمودار «مول - زمان» برای اجزای شرکت کننده در واکنش‌های شیمیایی گازی، کدام مورد همواره درست است؟

(۱) اگر برای ماده A ، شیب نمودار در گستره زمانی t_1 تا t_2 ($t_2 > t_1$)، برابر صفر باشد، واکنش به تعادل رسیده است و مقدار مول A ، ثابت باقی می‌ماند.

(۲) اگر سرعت واکنش، برابر با $\frac{\Delta n}{\Delta t}$ برای ماده A باشد، A فراورده واکنش است و ضریب استوکیومتری آن در معادله واکنش، برابر یک است.

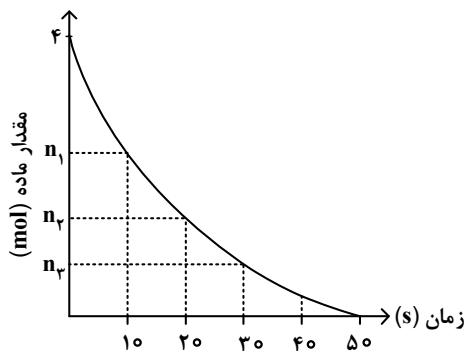
(۳) اگر برای ماده A ، شیب نمودار در گستره زمانی t_1 تا t_2 ، بزرگ‌تر از شیب نمودار در گستره زمانی t_2 تا t_3 ($t_3 > t_2 > t_1$) باشد، A فراورده واکنش است و $\frac{\Delta n}{\Delta t}$ برای آن، عددی مثبت است.

(۴) اگر شیب نمودار برای ماده A ، 2 برابر شیب نمودار برای ماده D باشد، A و D فراورده واکنش‌اند و نسبت ضرایب استوکیومتری آنها در معادله واکنش، برابر 2 است.

۹۵- اگر زیرلایه‌های الکترونی در حال پر شدن در اتم‌های دو عنصر X و Y ، به ترتیب $3d$ (با a الکترون) و $4p$ (با b الکترون) و تفاوت a و b ، برابر 7 باشد، کمترین تفاوت عدد اتمی دو عنصر X و Y ، کدام است؟

(۱) 6 (۲) 5 (۳) 4 (۴) 3

۹۶- نمودار داده شده، تجزیه ۴ مول گاز N_2O_5 را در یک ظرف ۲ لیتری نشان می دهد. اگر سرعت متوسط تشکیل گاز NO_2 در گستره زمانی ۱۰ تا ۳۰ ثانیه، برابر $5.4 \text{ mol.L}^{-1}.\text{min}^{-1}$ باشد، کدام مورد درست است؟ (واکنش، یک طرفه در نظر گرفته شود.)



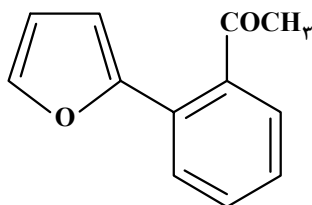
(۱) n_1 و n_2 به ترتیب می تواند ۲٫۲ و ۰٫۴ باشد.

(۲) اگر $n_1 - n_2 = 1.2$ ، سرعت واکنش در گستره زمانی ۱۰ تا ۲۰ ثانیه، برابر $6 \times 10^{-2} \text{ mol.L}^{-1}.\text{s}^{-1}$ است.

(۳) اگر $n_2 = 1$ ، مجموع غلظت فراورده ها در ثانیه ۲۰، برابر 7.5 mol.L^{-1} خواهد بود.

(۴) پس از کامل شدن واکنش، شمار مول های گازی درون ظرف، ۱٫۵ برابر شمار مول ها در آغاز واکنش است.

۹۷- کدام مورد درباره ساختار مولکول داده شده، نادرست است؟ ($H=1, O=16: \text{g.mol}^{-1}$)



(۱) دارای یک گروه عاملی کربونیل و یک گروه متیل است.

(۲) تفاوت شمار پیوندهای $C-H$ ، با شمار پیوندهای $C-C$ ، برابر ۳ است.

(۳) مجموع جرم اتم های اکسیژن، $3/2$ برابر جرم اتم های هیدروژن در ترکیب است.

(۴) شمار جفت الکترون های ناپیوندی روی اتم ها، ۲ برابر شمار اتم های کربنی است که عدد اکسایش صفر دارند.

۹۸- در هر زنجیر از یک نمونه پلی سیانواتن، میانگین شمار پیوندهای سه گانه، ۲ برابر میانگین شمار پیوندهای دو گانه در هر زنجیر از یک نمونه پلی استیرن است. اگر میانگین شمار مونومرهای سیانواتن در هر زنجیر از پلیمر آن، برابر

۱۸۰۰۰ باشد، میانگین جرم مولی پلی استیرن، برابر چند گرم است؟ ($H=1, C=12: \text{g.mol}^{-1}$)

(۱) 9.36×10^5 (۲) 6.24×10^5 (۳) 3.12×10^5 (۴) 1.56×10^5

۹۹- اگر در دمای اتاق، pH محلولی که از وارد شدن ۴۰ گرم از باز DOH (با درصد یونش یک) در ۲ لیتر آب مقطر تشکیل می شود، برابر 10.3 باشد، چند درصد از آن در آب حل شده است و شمار مول های یون هیدرونیوم در ۵۰۰ میلی لیتر

از این محلول کدام است؟ (از تغییر حجم آب بر اثر انحلال باز صرف نظر شود. $DOH = 200 \text{ g.mol}^{-1}$)

(۱) 2.5×10^{-11} ، ۲۰ (۲) 2.5×10^{-11} ، ۱۰

(۳) 5×10^{-11} ، ۲۰ (۴) 5×10^{-11} ، ۱۰

۱۰۰- با در نظر گرفتن دمای ثابت، کدام مورد درست است؟ ($\text{HCl} = ۳۶٫۵$, $\text{HI} = ۱۲۸$: g.mol^{-1})

(۱) اگر درجه یونش دو اسید HX و HA ، برابر باشد، با توجه به غلظت تعادلی آنها در محلول، همواره می توان قدرت اسیدی آنها را مقایسه کرد.

(۲) اگر در دو محلول جداگانه، مول های حل شده لیتیم اکسید، نصف مول های حل شده گاز هیدروژن کلرید در آب مقطر باشد، شمار یون های دو محلول با یکدیگر برابر است.

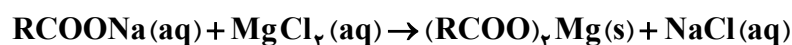
(۳) اگر شمار مول های حل شده باز قوی YOH ، در یک لیتر آب، با شمار مول های حل شده باز ضعیف XOH ، در دو لیتر آب برابر باشد، pH دو محلول، برابر است.

(۴) اگر جرم های برابر از دو گاز هیدروژن کلرید و هیدروژن یدید، به صورت جداگانه در ۱۰۰ میلی لیتر آب مقطر حل شوند، pH محلول HI ، کوچک تر است.

۱۰۱- اگر از واکنش ۰٫۰۶ مول صابون جامد دارای زنجیر هیدروکربنی سیر شده، با مقدار کافی محلول منیزیم کلرید،

۱۷٫۷ گرم رسوب تشکیل شود، شمار اتم های کربن در مولکول صابون کدام است و چند مول یون به حالت محلول

باقی می ماند؟ (معادله واکنش موازنه شود، $\text{H} = ۱$, $\text{C} = ۱۲$, $\text{O} = ۱۶$, $\text{Mg} = ۲۴$: g.mol^{-1})



(۱) ۰٫۰۶ ، ۱۷ (۲) ۰٫۱۲ ، ۱۸ (۳) ۰٫۱۲ ، ۱۷ (۴) ۰٫۰۶ ، ۱۸

۱۰۲- کدام مورد درست است؟

(۱) انحلال پذیر بودن عسل و گریس در آب، به وجود گروه هیدروکسیل در ساختار آنها وابسته است.

(۲) مخلوط آب و روغن و صابون همانند مخلوط اوره و آب، همگن است و هر دو نور را پخش می کنند.

(۳) نسبت شمار آنیون به کاتیون در پاک کننده های صابونی، با همین نسبت در پاک کننده های غیر صابونی، برابر است.

(۴) هنگام شستن لباس با پاک کننده های غیر صابونی در آب سخت، لکه های سفید رنگ ناشی از وجود یون های کلسیم و منیزیم روی سطح آنها تشکیل می شود.

۱۰۳- اگر تغییر جرم آند، در سلول گالوانی استاندارد «منیزیم - نقره»، نصف تغییر جرم کاتد در سلول گالوانی استاندارد

«منگنز - کروم» باشد و ۳٫۲۴ گرم به جرم کاتد در سلول «منیزیم - نقره» اضافه شود، به تقریب چند الکترون در

سلول «منگنز - کروم» مبادله شده است؟ (بازه های زمانی انجام واکنش ها، متفاوت در نظر گرفته شود.)

($\text{Mg} = ۲۴$, $\text{Cr} = ۵۲$, $\text{Mn} = ۵۵$, $\text{Ag} = ۱۰۸$: g.mol^{-1})

(۱) $۲٫۵ \times ۱۰^{۲۲}$

$E^\circ(\text{Ag}^+ / \text{Ag}) = +۰٫۸۰ \text{ V}$, $E^\circ(\text{Cr}^{۳+} / \text{Cr}) = -۰٫۷۴ \text{ V}$

(۲) $۱٫۵ \times ۱۰^{۲۳}$

$E^\circ(\text{Mn}^{۲+} / \text{Mn}) = -۱٫۱۸ \text{ V}$, $E^\circ(\text{Mg}^{۲+} / \text{Mg}) = -۲٫۳۷ \text{ V}$

(۳) $۵٫۰ \times ۱۰^{۲۲}$

(۴) $۲٫۰ \times ۱۰^{۲۳}$

- ۱۰۴- با توجه به اطلاعات زیر، که رفتار چهار فلز X, A, D و Z را در آزمایش‌های مختلف نشان می‌دهد، کدام مورد دربارهٔ مقایسهٔ قدرت کاهندگی آنها در مقایسه با Cu درست است؟
 - قدرت اکسندگی X^{2+} ، از قدرت اکسندگی Z^{2+} ، بیشتر است.
 - تنها سه فلز Z, D و X با محلول $CuCl_2(aq)$ ، واکنش می‌دهند.
 - با قرار دادن تیغه‌ای از فلز D در محلول‌های جداگانهٔ دارای یون‌های Z^{2+} ، A^{2+} و X^{2+} ، فقط فلزهای A و X رسوب می‌کنند.



- ۱۰۵- در کدام ترکیب، عدد اکسایش ۵ اتم کربن یکسان، و مجموع عدد اکسایش اتم‌های کربن دیگر، برابر ۱+ است؟
 (۱) بنزالدهید (۲) بنزوئیک‌اسید (۳) ۲- هپتانون (۴) اتیل بوتانوات

- ۱۰۶- واژهٔ شبکهٔ بلوری برای توصیف آرایش و منظم از در حالت جامد به کار می‌رود.



- ۱۰۷- در کدام دو گونه، ساختار لوویس، متفاوت، اما علامت بار جزئی اتم مرکزی، مشابه است؟



- ۱۰۸- یک مول CF_4 و یک مول CO_2 ، مطابق شکل و پس از باز شدن شیر (I)، تعادل گازی زیر را تشکیل می‌دهند. اگر شیر (II) باز شود، در تعادل نهایی، مجموع شمار مول‌های CO_2 و CF_4 ، چند برابر شمار مول‌های COF_2 خواهد بود؟ (حجم هر یک از ظرف‌ها، برابر یک لیتر و دما ثابت است).

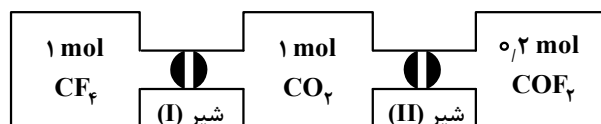


(۱) ۰,۵

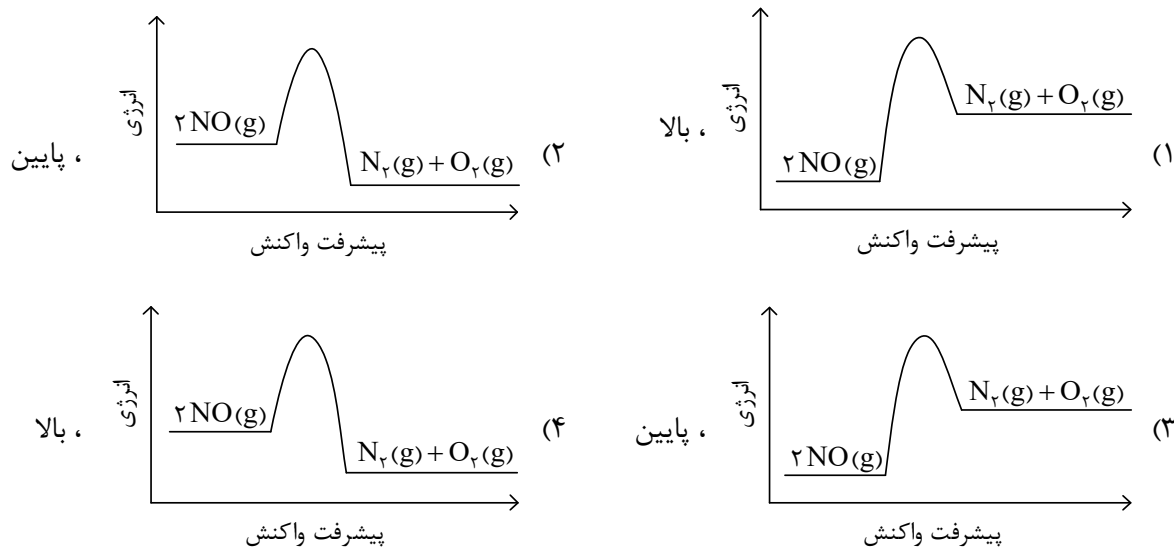
(۲) ۲

(۳) ۴

(۴) ۸



۱۰۹- نمودار «انرژی - پیشرفت واکنش» برای حذف آلاینده گاز NO در مبدل کاتالیستی بنزینی کدام است و این واکنش، در چه دماهایی بهتر انجام می‌شود؟



۱۱۰- تعادل گازی: $H_2 + Br_2 \rightleftharpoons 2HBr$, $\Delta H < 0$ ، در یک ظرف ۲ لیتری و با وجود یک مول از هر یک از مواد

شرکت کننده برقرار است. کدام مورد درباره این تعادل درست است؟

- (۱) با انتقال تعادل به ظرف ۵ لیتری، غلظت هر یک از مواد شرکت کننده، 0.4 برابر می‌شود.
- (۲) اگر با کاهش دما، 20 درصد به مول‌های فراورده اضافه شود، مقدار K ، 0.8 برابر می‌شود.
- (۳) با انتقال تعادل به ظرف یک لیتری، غلظت فراورده، نصف و تعادل در جهت رفت، جابه‌جا می‌شود.
- (۴) با افزایش دما، تعادل در جهت برگشت جابه‌جا شده و سطح انرژی واکنش دهنده‌ها، افزایش می‌یابد.

محل انجام محاسبات

دفترچه

شماره

۳

دفترچه شماره ۳

صبح جمعه

۱۴۰۴/۰۴/۲۷



جمهوری اسلامی ایران
وزارت علوم، تحقیقات و فناوری
سازمان سنجش آموزش کشور

در زمینه مسائل علمی باید دتجیل قلم بود.
مقام منظم رهبری.

آزمون اختصاصی (سراسری) ورودی دانشگاهها و مؤسسات آموزشی عالی - نوبت دوم سال ۱۴۰۴

گروه آزمایشی علوم تجربی



تعداد سوالات: ۴۵ - مدت زمان پاسخ گویی: ۶۰ دقیقه					
ردیف	ماده امتحانی	تعداد سؤال	از شماره	تا شماره	زمان پاسخ گویی
۱	ریاضی	۳۰	۱۱۱	۱۴۰	۶۰ دقیقه
۲	زمین شناسی	۱۵	۱۴۱	۱۵۵	

استفاده از ماشین حساب ممنوع است

این آزمون نمره منفی دارد

حق چاپ، تکثیر و انتشار سؤالات به هر روش (الکترونیکی و...) پس از بزرگاری آزمون، برای اشخاص حقیقی و حقوقی با مجوز این سازمان مجاز می‌باشد و با متعلقین برابر مقررات رفتار می‌شود.

* داوطلب گرامی، عدم درج مشخصات و امضا در مندرجات جدول زیر، به منزله عدم حضور شما در جلسه آزمون است.

اینجانب با شماره داوطلبی با آگاهی کامل، یکسان بودن شماره صندلی خود را با شماره داوطلبی مندرج در بالای کارت ورود به جلسه، بالای پاسخنامه و دفترچه سؤالات، نوع و کد کنترل درج شده بر روی دفترچه سؤالات تأیید می‌نمایم.

امضا:

۱۱۱- حاصل عبارت $\sqrt[4]{\sqrt[3]{2^8}} \times \sqrt[4]{162} \times \sqrt[4]{2}$ چند برابر $\sqrt{6}$ است؟

- (۱) ۲ (۲) $3\sqrt{2}$ (۳) $2\sqrt{6}$ (۴) ۳

۱۱۲- به ازای چند مقدار طبیعی m ، اشتراک دو بازه $A = [\frac{4}{m+1}, +\infty)$ و $B = (-\infty, \frac{5}{m+2}]$ یک مجموعه منتهای است؟

- (۱) ۴ (۲) ۳ (۳) ۲ (۴) ۱

۱۱۳- اگر a, b, c سه جمله نخست و متمایز یک دنباله حسابی بوده و $\frac{1}{c}, \frac{1}{a}, \frac{1}{b}$ سه جمله نخست یک دنباله هندسی باشند، دو برابر قدر نسبت دنباله هندسی کدام است؟

- (۱) ۱ (۲) ۲ (۳) -۱ (۴) -۲

۱۱۴- مجموعه جواب نامعادله $(2m+n-5)x < n - (2m)x^2 - (5-2m)x^2$ به صورت بازه $(-1, m-2)$ است. اگر m عدد طبیعی باشد، مقدار $m+n$ کدام است؟

- (۱) صفر (۲) ۱ (۳) ۲ (۴) ۳

۱۱۵- ارتفاع یک مثلث ۲ واحد بیشتر از ۳ برابر قاعده آن است. اگر ۴ واحد هم به ارتفاع و هم به قاعده این مثلث اضافه شود، مساحت مثلث جدید $\frac{4}{5}$ برابر مساحت مثلث اولیه می‌شود. مساحت مثلث اولیه کدام است؟

- (۱) ۸ (۲) $14\frac{5}{2}$ (۳) $16\frac{5}{2}$ (۴) ۲۸

۱۱۶- اگر f تابع همانی و g تابع ثابت بوده و $g(3x) + 2f(3+x) = 3 + 2x$ باشد، مقدار $\frac{f(-1)}{g(4)}$ کدام است؟

- (۱) $\frac{1}{4}$ (۲) $\frac{1}{3}$ (۳) $-\frac{1}{4}$ (۴) $-\frac{1}{3}$

محل انجام محاسبات

۱۱۷- اگر $f(x) = \sqrt{a-x}$ و $g(x) = 3-x$ باشد، به ازای کدام مقدار a ، توابع f و $g \circ f$ روی محور y ها متقاطع اند؟

- (۱) ۱٫۲۵ (۲) ۱٫۵ (۳) ۲٫۲۵ (۴) ۲٫۵

۱۱۸- مجموع جذر معکوس ریشه‌های معادله $36x^2 - (m+14)x + 1 = 0$ برابر ۵ است. حاصل ضرب ریشه‌های معادله

$$mx^2 + 3x + 2 = 0 \text{ کدام است؟}$$

- (۱) -۲ (۲) -۳ (۳) ۲ (۴) ۳

۱۱۹- تابع $y = \frac{x}{|x|} \sqrt{a+bx^2}$ و وارون آن از نقطه $(-\frac{3}{5}, -\frac{4}{5})$ می‌گذرند. مقدار $\frac{a}{b}$ کدام است؟

- (۱) $-\frac{1}{3}$ (۲) -۳ (۳) $-\frac{1}{2}$ (۴) -۱

۱۲۰- به ازای چند مقدار صحیح از m ، تابع $f = \{(-5, 4-m), (2, 2m+3), (10, -10), (3, m-2)\}$ نزولی است؟

- (۱) ۴ (۲) ۵ (۳) ۶ (۴) ۷

۱۲۱- اگر $(2, a+b) \cup (4b-a, 5)$ یک همسایگی محذوف ۴ باشد، مقدار $b-a$ کدام است؟

- (۱) $-\frac{4}{5}$ (۲) $-\frac{5}{4}$ (۳) $\frac{4}{5}$ (۴) $\frac{5}{4}$

۱۲۲- در یک متوازی‌الاضلاع به مساحت ۵۴، نسبت دو ضلع مجاور ۲ به ۳ است. اگر زاویه بزرگ‌تر بین دو ضلع مجاور

۱۵۰ درجه باشد، محیط متوازی‌الاضلاع کدام است؟

- (۱) ۳۰ (۲) ۱۵ (۳) $15\sqrt{2}$ (۴) $30\sqrt{2}$

۱۲۳- اگر $\alpha = 22,5^\circ$ درجه باشد، حاصل $A = -1 + \tan(7\alpha)$ کدام است؟

- (۱) $-\frac{\sqrt{2}}{2}$ (۲) $-\sqrt{2}$ (۳) $1-\sqrt{2}$ (۴) $\frac{\sqrt{2}}{2} - 1$

۱۲۴- در بازه $[0, \pi]$ معادله مثلثاتی $\sin 2x = \cos 3x$ چند جواب دارد؟

- (۱) ۲ (۲) ۳ (۳) ۴ (۴) ۵

۱۲۵- اگر مقادیر تقریبی $\log_2 7 = 2,8$ و $\log_2 2 = 0,5$ باشد، حاصل $\log_{14} 10$ کدام است؟

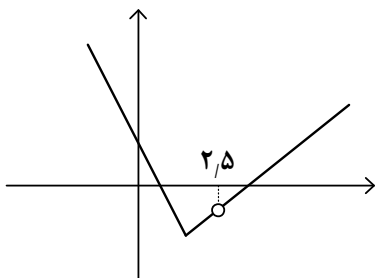
- (۱) $\frac{15}{19}$ (۲) $\frac{10}{19}$ (۳) $\frac{11}{14}$ (۴) $\frac{9}{14}$

محل انجام محاسبات

۱۲۶- ضریب تغییرات داده‌های ۱, ۱, ۰۸, ۱, ۲, ۱, ۱۶, ۱, ۱۶ کدام است؟

(۱) $\frac{1}{2\sqrt{3}}$ (۲) $\frac{1}{3\sqrt{5}}$ (۳) $\frac{1}{6\sqrt{3}}$ (۴) $\frac{1}{2\sqrt{5}}$

۱۲۷- نمودار تابع با ضابطه $f(x) = \begin{cases} 2x^2 + ax + b & x \geq 1 \\ 4x - c & x < 1 \end{cases}$ به صورت زیر رسم شده است. مقدار $a + b$ کدام است؟



- (۱) ۴
(۲) ۱
(۳) -۱
(۴) -۴

۱۲۸- تابع با ضابطه $f(x) = 2 \left[\frac{2-x}{2} \right] + a \left[\frac{x+2}{3} \right]$ در نقطه $x = -2$ حد دارد. مقدار $\left[\frac{a}{3} \right]$ کدام است؟

- (۱) ۳ (۲) ۲ (۳) ۱ (۴) صفر

۱۲۹- اگر $\lim_{x \rightarrow -1} \frac{1 - k[x]}{x^2 - 1} = -\infty$ باشد، نقاط $(k\pi, \cos k\pi)$ در کدام ناحیهٔ محورهای مختصات قرار دارند؟

- (۱) اول (۲) دوم (۳) سوم (۴) چهارم

۱۳۰- تابع f با ضابطه $f(x) = \begin{cases} \frac{x^2 + mx + n}{a - x} & x \neq a \\ 2 & x = a \end{cases}$ روی \mathbb{R} پیوسته است. اگر $f(2a) = 0$ باشد، مقدار $n - m$ کدام است؟

- (۱) -۲ (۲) -۴ (۳) ۱۲ (۴) ۱۴

۱۳۱- خط $y + ax = 2$ در نقطه‌ای به طول ۴ بر نمودار تابع f مماس است. اگر $f(4) + f'(4) = -1$ باشد، مقدار $f'(4)$ کدام است؟

- (۱) ۱ (۲) ۰,۶ (۳) -۰,۶ (۴) -۱

۱۳۲- خط d از مبدأ مختصات می‌گذرد و بر نمودار تابع $f(x) = 2\sqrt{x}(4x^2 + 3)$ مماس است. شیب خط d چقدر است؟

- (۱) $4\sqrt{2}$ (۲) $8\sqrt{2}$ (۳) ۶ (۴) ۱۲

۱۳۳- نقاط A و B به ترتیب، روی منحنی‌های $y = x^3 - 2x - 3$ و $y = x^3 + x^2 + 1$ قرار دارند. اگر این نقاط روی خطی به موازات محور yها باشند، کمترین مقدار طول پاره خط AB کدام است؟

- ۱ (۴) ۲ (۳) ۳ (۲) ۴ (۱)

۱۳۴- با ارقام ۱، ۳، ۵، ۷، ۸، ۹، چند عدد سه رقمی بدون تکرار می‌توان نوشت که از ۷۸۱ کوچک تر باشد؟

- ۱۰۳ (۴) ۱۱۱ (۳) ۱۲۵ (۲) ۱۳۳ (۱)

۱۳۵- در یک کیسه کارت‌هایی به شماره ۱ تا ۸ وجود دارد. ۳ کارت به تصادف از این کیسه خارج می‌کنیم، با کدام احتمال یکی از اعداد روی کارت‌ها شمارنده دوتای دیگر است؟

- $\frac{۲۵}{۵۶}$ (۴) $\frac{۹}{۵۶}$ (۳) $\frac{۳}{۸}$ (۲) $\frac{۳}{۷}$ (۱)

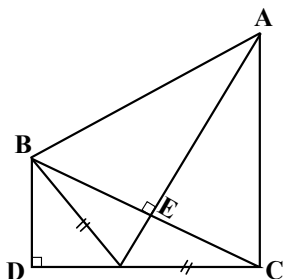
۱۳۶- در یک ظرف ۵ مهره سیاه و تعدادی مهره سبز وجود دارد. دو مهره به تصادف از ظرف خارج می‌شود، احتمال اینکه حداقل یک مهره سیاه باشد، برابر $\frac{۵}{۶}$ است. تعداد مهره سبز چقدر از تعداد مهره سیاه کمتر است؟

- ۱ (۴) ۲ (۳) ۳ (۲) ۴ (۱)

۱۳۷- مثلثی با اضلاع ۴، ۵ و x با مثلثی با اضلاع ۳، ۷ و y متشابه است. اختلاف کمترین و بیشترین مقادیر ممکن برای y کدام است؟

- ۲٫۸ (۴) ۳٫۱۵ (۳) ۶٫۳۵ (۲) ۷٫۲ (۱)

۱۳۸- در شکل زیر، $BD = ۲$ ، $CD = ۴$ و زاویه \hat{ACD} قائمه است. مساحت مثلث ABE کدام است؟

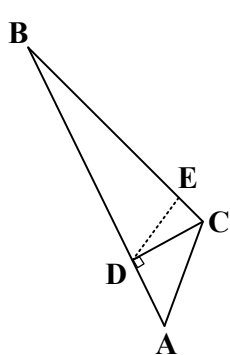


- ۱۰ (۱)

- ۷٫۵ (۲)

- ۵ (۳)

- ۲٫۵ (۴)



۱۳۹- اگر $AC = 3$ ، $BC = 9$ و DE بر BC عمود باشد، طول BE کدام است؟ ($\hat{C} = 90^\circ$)

(۱) ۸٫۱

(۲) ۷٫۲

(۳) ۶٫۴

(۴) ۵٫۶

۱۴۰- دو نقطه با مختصات $(-\frac{1}{3}, b)$ و $(-\frac{1}{4}, a)$ دو رأس مجاور یک مربع بوده و روی خط Δ قرار دارند. اگر شیب خط

Δ برابر $\sqrt{3}$ باشد، طول قطر این مربع کدام است؟

(۴) $\frac{\sqrt{2}}{2}$

(۳) $\frac{\sqrt{3}}{2}$

(۲) $\frac{\sqrt{3}}{3}$

(۱) $\frac{\sqrt{2}}{3}$

محل انجام محاسبات

۱۴۱- بیشترین جرم پوسته زمین را کدام کانی تشکیل می‌دهد؟

- (۱) پلاژیوکلاز (۲) پیروکسن (۳) گالن (۴) کوارتز

۱۴۲- کدام روش در کاهش بیماری گواتر در یک منطقه مؤثرتر است؟

- (۱) استفاده از کودهای یددار در زمین‌های کشاورزی (۲) افزایش ید به آب‌های تصفیه‌شده منطقه
(۳) افزایش فلوئور به آب آشامیدنی منطقه (۴) افزایش ید به رژیم غذایی مردم منطقه

۱۴۳- به ترتیب منشأ عناصر فلوئور، آرسنیک و کلسیم می‌تواند کدام کانی‌ها باشند؟

- (۱) مسکوویت، کرومیت و کلسیت (۲) گالن، کالکوپیریت و دولومیت
(۳) میکای سیاه، پیریت و دولومیت (۴) فلوئوریت، پیریت و هماتیت

۱۴۴- کدام عبارت، توصیف مناسب‌تری از کاربرد «زمین‌شناسی ساختمانی» است؟

- (۱) با استفاده از اصول زمین‌شناسی به ساخت سازه‌های بزرگ صنعتی، شهری، تجاری و... می‌پردازد.
(۲) ساختارهای تشکیل‌دهنده پوسته زمین و نیروهای به‌وجود آورنده آنها را شناسایی و بررسی می‌کند.
(۳) رفتار و ویژگی‌های مواد سطحی زمین از نظر مقاومت در برابر فشارها را برای ساخت سازه‌های مهم بررسی می‌کند.
(۴) علم و فن جمع‌آوری اطلاعات از ساخت‌های زمین‌شناسی و عوارض سطح زمین بدون تماس فیزیکی با آنها را انجام می‌دهد.

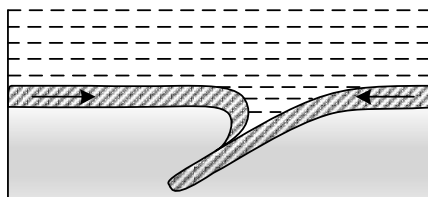
۱۴۵- بخش زیراساس در راه‌سازی، کدام عمل را انجام می‌دهد و برای این بخش از چه موادی استفاده می‌شود؟

- (۱) نگهداری ریل - مصالح خرده‌سنگی (۲) توزیع بار چرخه‌ها - بالاست
(۳) مقاوم‌سازی - شن، ماسه و قیر (۴) زهکشی - شن و ماسه

۱۴۶- مهندسين اکتشاف منابع نفت و گاز، جستجوی اولیه خود را برای رسیدن به این منابع باید از کدام مناطق شروع کنند؟

- (۱) ساختمان‌های زمین‌شناسی که مناسب تشکیل نفت‌گیرها هستند.
(۲) مناطق نزدیک به دریاها یا کم‌عمق که رسوب‌گذاری شدید دارند.
(۳) سنگ‌های آهکی حفره‌دار تاقدیسی بالای سطح ایستابی آب
(۴) چین‌خوردگی‌هایی که دارای تاقدیس فراوان هستند.

۱۴۷- شکل زیر، مراحل اولیه برخورد دو ورقه اقیانوسی به هم را نشان می‌دهد. پدیده زمین‌شناختی بعدی در این منطقه،



کدام خواهد بود؟

- (۱) بسته شدن اقیانوس
(۲) ایجاد پشته اقیانوسی
(۳) تشکیل جزایر قوسی
(۴) به‌وجود آمدن درازگودال

۱۴۸- کدام مراحل چگونگی تشکیل شدن یک رگه معدنی را بهتر نشان می‌دهد؟

- (۱) آب زیرزمینی - تماس با توده‌های مذاب - رشد بلورهای بزرگ - تشکیل پگماتیت
(۲) هوازدگی سنگ‌ها - جدا شدن کانی‌های چگال‌تر - تجمع در حفره‌های خالی سنگ بستر
(۳) ماگمای درحال سرد شدن - عناصر با چگالی بالا - تشکیل بلور - سقوط بلورها به کف ماگما
(۴) آب داغ - انحلال برخی از عناصر - جابه‌جایی - سرد شدن داخل شکستگی‌ها - ته‌نشین شدن

۱۴۹- همهٔ موارد زیر بر غلظت نمک‌های حل‌شده در آب‌های زیرزمینی آزاد اثر دارند، به‌جز:

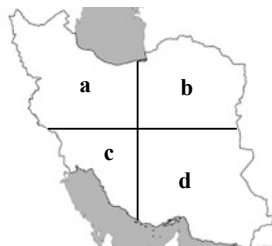
- (۱) دما (۲) فشار (۳) سرعت نفوذ آب (۴) مسافت طی شده آب

۱۵۰- کدام عبارت یا عبارتها، برای عنصر «بریلیم» درست است؟

- الف - با فوران آتشفشان‌ها مقداری از اعماق زمین به سطح آورده می‌شود.
ب - سیلیکات آن با درخشش رنگین‌کمانی به راحتی قابل شناسایی است.
ج - فسفات آن با رنگ سبز یکی از گران‌ترین جواهرات است.

- (۱) «الف» (۲) «ب» (۳) «الف» و «ب» (۴) «الف» و «ج»

۱۵۱- کدام عبارت‌ها، برای منطقه b در نقشه زیر درست است؟



- الف - اغلب گسل‌های اصلی، راستالغز و در جهت شرقی - غربی‌اند.
ب - اغلب سنگ‌های رسوبی شمالی این منطقه دارای توالی رسوبی منظمی هستند.
ج - سنگ‌های رسوبی برخی از نواحی آن دارای ذخایر عظیم نفت است.
د - از داخل سنگ‌های رسوبی قدیمی آن، فیروزه استخراج می‌شود.

- (۱) «ج» و «د» (۲) «الف» و «ج»
(۳) «ب» و «د» (۴) «الف» و «ب»

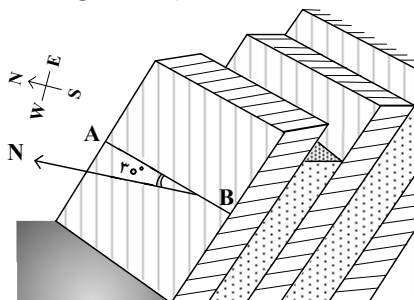
۱۵۲- چند روز در سال محور فرضی زمین، یکی از قطره‌های دایره عظیمه روشنایی می‌شود؟

- (۱) یک (۲) دو (۳) ۳۶۵ (۴) هرگز

۱۵۳- پس از یک بارندگی طولانی و آرام، سطح آب چاه‌های حفرشده در آبخوانی همگن با وسعت تقریبی ۲۰ کیلومترمربع و تخلخل ۳۰ درصد، ۲۰ سانتی‌متر بالا آمده است. حدود چند کیلومتر مکعب آب بر اثر این بارندگی وارد آبخوان شده است؟

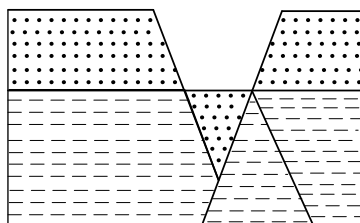
- (۱) ۱,۲ (۲) ۱۲ (۳) ۰,۱۲ (۴) ۱۲۰

۱۵۴- در شکل زیر، AB امتداد لایه‌ها را نشان می‌دهد، اگر شیب لایه در این شکل ۴۵ درجه باشد، کدام مورد این لایه‌ها را معرفی می‌کند؟



- (۱) N 30 E و SW 45
(۲) N AB 30 و S 45
(۳) N 30 E و 45 NW
(۴) 45 S و AB N 30

۱۵۵- در شکل روبه‌رو، چند گسل فعالیت کرده‌اند؟



- (۱) ۴
(۲) ۳
(۳) ۲
(۴) ۱

کد کنترل

998

A



جمهوری اسلامی ایران
وزارت علوم، تحقیقات و فناوری
سازمان سنجش آموزش کشور

دفترچه شماره ۴

صبح جمعه
۱۴۰۴/۰۴/۲۷

در زمینه مسائل علمی باید دنبال قلم بود.
مقام معلم رهبری

آزمون اختصاصی (سراسری) ورودی دانشگاه‌ها و مؤسسات آموزش عالی - نوبت دوم سال ۱۴۰۴

گروه آزمایشی علوم تجربی
(ویژه دیپلم بیماری)



ردیف	ماده امتحانی	تعداد سؤال	از شماره	تا شماره	زمان پاسخ‌گویی
۱	بیماری	۳۰	۱۵۶	۱۸۵	۲۰ دقیقه

استفاده از ماشین حساب ممنوع است

این آزمون نمره منفی دارد

حق چاپ، تکثیر و انتشار سؤالات به هر روش (الکترونیکی و...) پس از برگزاری آزمون، برای تمامی اشخاص حقیقی و حقوقی تنها با مجوز این سازمان مجاز می‌باشد و با متخلفین برابر مقررات رفتار می‌شود.

* داوطلب گرامی، عدم درج مشخصات و امضا در مندرجات جدول زیر، به منزله عدم حضور شما در جلسه آزمون است.

اینجانب با شماره داوطلبی با آگاهی کامل، یکسان بودن شماره صندلی خود را با شماره داوطلبی مندرج در بالای کارت ورود به جلسه، بالای پاسخنامه و دفترچه سؤالات، نوع و کد کنترل درج شده بر روی دفترچه سؤالات تأیید می‌نمایم.

امضا:

- ۱۵۶- دوره نهفتگی بیماری سرخجه به‌طور متوسط، چند روز است؟
 (۱) ۲ تا ۵ (۲) حدود ۱۰ تا ۱۴ (۳) حدود ۱۰ تا ۲۱ (۴) ۱۸
- ۱۵۷- کدام یک از موارد زیر از عوارض مخملک است؟
 (۱) تب روماتیسمی (۲) زبان توت‌فرنگی (۳) پوست ارغوانی (۴) ورم لوزه‌ها
- ۱۵۸- احساس شلی در مفصل و شنیدن صدای شکستگی یا تپ‌تپ کردن توسط بیمار از علائم کدام بیماری است؟
 (۱) پیچ‌خوردگی (۲) رگ‌به‌رگ شدن (۳) در رفتگی (۴) کوفتگی
- ۱۵۹- بیماری که دچار سوختگی شده را در چه موقعیتی باید قرار داد؟
 (۱) فقط بر روی تخت (۲) فقط خارج از تخت (۳) نواحی موردنظر خلاف انقباضات یا تغییر شکل پیش‌بینی شده (۴) نواحی موردنظر موافق انقباضات یا تغییر شکل پیش‌بینی شده
- ۱۶۰- کدام مورد زیر از بیماری التهابی خفیف در کودکان می‌باشد؟
 (۱) خروسک (۲) اوتیت (۳) آسم (۴) لارنژیت حاد
- ۱۶۱- خالی و پر کردن کاف لوله تراکیاستومی هر چند ساعت یک‌بار می‌بایست انجام شود؟
 (۱) ۱-۲ (۲) ۲-۳ (۳) ۱٫۵-۲٫۵ (۴) ۲٫۵-۳٫۵
- ۱۶۲- کدام مورد از علائم آمبولی ریوی نیست؟
 (۱) تب (۲) شوک (۳) کند شدن ضربان قلب (۴) سرفه
- ۱۶۳- در مایع لنف کدام مورد به مقدار زیاد وجود دارد؟
 (۱) هموگلوبین (۲) گلبول سفید (۳) پلاکت (۴) گلبول قرمز
- ۱۶۴- فقدان یا کمبود عامل هشت باعث ایجاد کدام بیماری در انسان می‌شود؟
 (۱) لوسمی (۲) هوجکین (۳) هموفیلی نوع B (۴) هموفیلی نوع A
- ۱۶۵- کاهش غلظت کدام عنصر در پلاسما، سبب افزایش ترشح غده پاراتیروئید در بدن می‌گردد؟
 (۱) پتاسیم (۲) کلسیم (۳) فسفر (۴) سدیم
- ۱۶۶- افزایش دفعات اجابت مزاج از علائم کدام بیماری است؟
 (۱) پانکراتیت مزمن (۲) سیروز کبدی (۳) پانکراتیت حاد (۴) کله‌سیستیت
- ۱۶۷- کدام دو هیپاتیت از طریق مدفوعی - دهانی منتقل می‌گردد؟
 (۱) A و B (۲) A و D (۳) A و E (۴) C و E

- ۱۶۸- عامل ایجادکننده کدام بیماری، باکتری است؟
 (۱) اسهال خونی (۲) مالاریا (۳) سرخک (۴) کزاز
- ۱۶۹- عامل ایجاد تورم ملتحمه چشم، کدام است؟
 (۱) پشه (۲) مگس
 (۳) کنه (۴) شیش
- ۱۷۰- کدام یک از خلقیات، نشان‌دهنده مرحله کمال و عالی اخلاق پسندیده می‌باشد؟
 (۱) مهربانی (۲) وظیفه‌شناسی (۳) ایثار و بخشندگی (۴) خوش‌زبانی و ادب
- ۱۷۱- اختصارات h.S و SL ، A.M ، Ac به ترتیب به چه معناست؟
 (۱) پس از غذا، پس از ظهر، وقت خواب و زیرزبانی (۲) پیش از غذا، پیش از ظهر، وقت خواب و زیرزبانی
 (۳) پیش از ظهر، پیش از غذا، زیرزبانی و وقت خواب (۴) پیش از غذا، پیش از ظهر، زیرزبانی و وقت خواب
- ۱۷۲- کدام وضعیت، برای بیماری که دچار مشکل شدید تنفسی است، مناسب‌تر است؟
 (۱) خوابیده به پهلو چپ (۲) خوابیده به پهلو راست
 (۳) نشسته با زاویه 90° (۴) نیمه‌نشسته با زاویه 45°
- ۱۷۳- کدام مورد، مرحله دوم بالینی نارسایی حاد کلیه است؟
 (۱) برقراری ترشح ادرار (۲) کم شدن ادرار
 (۳) قطع کامل ادرار (۴) بهبودی
- ۱۷۴- کدام عبارت درست است؟
 (۱) نفرون از یک ساختمان میکروسکوپی و متشکل از چند کیسول گلومرولی بوجود می‌آید.
 (۲) کلیه‌ها از حد آخرین مهره سینه‌ای تا حد ششمین مهره کمری امتداد دارند.
 (۳) کلیه راست کمی بالاتر و نازک‌تر از کلیه چپ است.
 (۴) هر نفرون قادر است ادرار درست کند.
- ۱۷۵- فعالیت بیش از حد قشر آدرنال، باعث به‌وجود آمدن کدام بیماری است؟
 (۱) سندرم نفروتیک (۲) سندرم کوشینگ (۳) پیلونفریت (۴) آدیسون
- ۱۷۶- از ماه چندم بارداری، کلسیم اضافی برای مادر لازم است؟
 (۱) سوم (۲) چهارم (۳) پنجم (۴) ششم
- ۱۷۷- موکوپروتئین مترشحه از سلول‌های جداری انتهای معده با کدام ویتامین ترکیب می‌شود و جذب آن را به میزان زیادی افزایش می‌دهد؟
 (۱) D (۲) C (۳) K (۴) B_{۱۲}
- ۱۷۸- مسمومیت با سرب و منوکسید کربن از علل کدام بیماری است؟
 (۱) مننژیت (۲) انسفالیت (۳) آنوریسم (۴) آبسه مغزی
- ۱۷۹- اولین علامت کدام بیماری، اختلال در حافظه است؟
 (۱) آلزایمر (۲) پارکینسون (۳) گیلن باره (۴) میاستنی گراویس
- ۱۸۰- اثر سمپاتیک به ترتیب، بر روی «مردمک‌ها» و «فشار خون» چگونه است؟
 (۱) گشاد و کاهش (۲) تنگ و افزایش (۳) گشاد و افزایش (۴) تنگ و کاهش
- ۱۸۱- کدام گزینه، به ترتیب، لایه بیرونی و درونی غشای سیتوپلاسمی سلول باکتری را تشکیل می‌دهد؟
 (۱) لیپید و مواد معدنی (۲) مواد معدنی و لیپید (۳) پروتئین و لیپید (۴) پروتئین و کربوهیدرات

- ۱۸۲- کدام یک جزء قسمت خارجی دستگاه تناسلی در مردان است؟
 (۱) غدد جنسی (۲) اسکروتوم (۳) غده‌های کوپر (۴) مجاری اپیدیدیم
- ۱۸۳- مصرف استروژن بدون پروژسترون به مدت طولانی در زنان باعث کدام مورد زیر می‌گردد؟
 (۱) سرطان رحم (۲) از بین رفتن کیست پستان
 (۳) از بین رفتن ماستیت (۴) بهبودی لیپوم
- ۱۸۴- کدام یک جزء علائم خفیف بیماری روانی است؟
 (۱) سوءظن (۲) هذیان (۳) فوبیا (۴) توهم
- ۱۸۵- کدام عبارت نادرست است؟
 (۱) خانواده‌هایی که دچار مشکلات خانوادگی هستند جزء گروه‌های آسیب‌پذیر می‌باشند.
 (۲) وجود هر نوع فشار روانی در محیط زندگی می‌تواند عامل ایجاد بیماری روانی شود.
 (۳) بیماری‌های روانی که تنها ناشی از یک عامل هستند به ندرت دیده می‌شوند.
 (۴) بیماری‌های شدید روانی بیش از بیماری‌های خفیف روانی رواج دارد.



نام مجموعه		نام دفترچه										کد دفترچه	
علوم تجربی		شماره ۱ - شماره ۲ - شماره ۳ - شماره ۴ (ویژه دبیلیمه‌های بهیاری)										۱۰۰A - ۴۰۰A - ۷۰۰A - ۹۹۸A	
شماره سوال	گزینه صحیح	شماره سوال	گزینه صحیح	شماره سوال	گزینه صحیح	شماره سوال	گزینه صحیح	شماره سوال	گزینه صحیح	شماره سوال	گزینه صحیح	شماره سوال	گزینه صحیح
۱	۴	۴۱	۴	۸۱	۳	۱۲۱	۱	۱۶۱	۱				
۲	۳	۴۲	۳	۸۲	۲	۱۲۲	۴	۱۶۲	۳				
۳	۱	۴۳	۲	۸۳	۳	۱۲۳	۲	۱۶۳	۲				
۴	۴	۴۴	۱	۸۴	۱	۱۲۴	۲	۱۶۴	۴				
۵	۳	۴۵	۲	۸۵	۲	۱۲۵	۱	۱۶۵	۲				
۶	۱	۴۶	۲	۸۶	۴	۱۲۶	۴	۱۶۶	۱				
۷	۲	۴۷	۳	۸۷	۱	۱۲۷	۱	۱۶۷	۳				
۸	۲	۴۸	۱	۸۸	۴	۱۲۸	۴	۱۶۸	۴				
۹	۴	۴۹	۴	۸۹	۳	۱۲۹	۳	۱۶۹	۲				
۱۰	۱	۵۰	۲	۹۰	۲	۱۳۰	۴	۱۷۰	۳				
۱۱	۳	۵۱	۳	۹۱	۴	۱۳۱	۳	۱۷۱	۴				
۱۲	۴	۵۲	۳	۹۲	۳	۱۳۲	۲	۱۷۲	۳				
۱۳	۲	۵۳	۲	۹۳	۱	۱۳۳	۲	۱۷۳	۱				
۱۴	۱	۵۴	۴	۹۴	۲	۱۳۴	۳	۱۷۴	۴				
۱۵	۳	۵۵	۱	۹۵	۴	۱۳۵	۱	۱۷۵	۲				
۱۶	۲	۵۶	۲	۹۶	۱	۱۳۶	۴	۱۷۶	۳				
۱۷	۴	۵۷	۴	۹۷	۴	۱۳۷	۳	۱۷۷	۴				
۱۸	۱	۵۸	۱	۹۸	۳	۱۳۸	۳	۱۷۸	۲				
۱۹	۳	۵۹	۴	۹۹	۱	۱۳۹	۱	۱۷۹	۱				
۲۰	۱	۶۰	۳	۱۰۰	۲	۱۴۰	۱	۱۸۰	۳				
۲۱	۳	۶۱	۲	۱۰۱	۲	۱۴۱	۱	۱۸۱	۴				
۲۲	۴	۶۲	۱	۱۰۲	۳	۱۴۲	۴	۱۸۲	۲				
۲۳	۱	۶۳	۲	۱۰۳	۱	۱۴۳	۳	۱۸۳	۱				
۲۴	۱	۶۴	۲	۱۰۴	۴	۱۴۴	۲	۱۸۴	۳				
۲۵	۲	۶۵	۴	۱۰۵	۱	۱۴۵	۴	۱۸۵	۴				
۲۶	۱	۶۶	۳	۱۰۶	۳	۱۴۶	۱						
۲۷	۳	۶۷	۳	۱۰۷	۲	۱۴۷	۳						
۲۸	۲	۶۸	۱	۱۰۸	۳	۱۴۸	۴						
۲۹	۳	۶۹	۲	۱۰۹	۴	۱۴۹	۲						
۳۰	۴	۷۰	۳	۱۱۰	۱	۱۵۰	۱						
۳۱	۴	۷۱	۴	۱۱۱	۳	۱۵۱	۴						
۳۲	۳	۷۲	۱	۱۱۲	۲	۱۵۲	۲						
۳۳	۱	۷۳	۲	۱۱۳	۴	۱۵۳	-						
۳۴	۲	۷۴	۴	۱۱۴	۳	۱۵۴	۳						
۳۵	۱	۷۵	۱	۱۱۵	۱	۱۵۵	۳						
۳۶	۳	۷۶	۱	۱۱۶	۲	۱۵۶	۴						
۳۷	۴	۷۷	۳	۱۱۷	۳	۱۵۷	۱						
۳۸	۲	۷۸	۴	۱۱۸	۱	۱۵۸	۲						
۳۹	۳	۷۹	۲	۱۱۹	۴	۱۵۹	۳						
۴۰	۱	۸۰	۴	۱۲۰	۳	۱۶۰	۱						